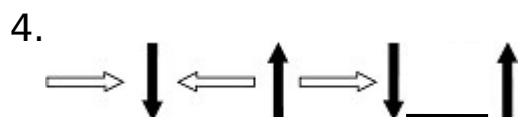
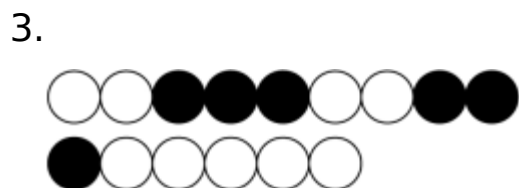


## 7.11 图形与数字的变化规律

一、找规律画一画。




二、我会涂。(按规律涂上阴影。)



三、我会做。

1. 空白处画什么？



答案：

一、1.   2.   3.   4. 

二、略

三、1.

