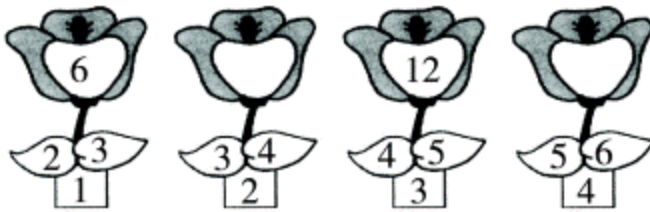


7.12 等差数列与数组中的变化规律

一、我会填数。

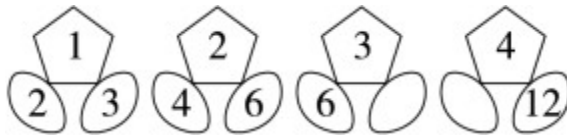
1.




2.



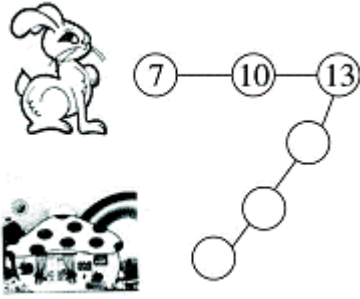
3.



二、划掉一个，使小动物的食物排列有规律。



三、帮小兔找家。



答案：

一、**1**. 9 15 **2**. 12 5 **3**. 9 8

二、6 9 45

三、16 19 22