

第二单元检测卷 (1)

一、直接写出得数。

$$12-5= \quad 13-9= \quad 14-6= \quad 15-7= \quad 14-7=$$

$$15-9= \quad 11-6= \quad 14-5= \quad 13-6= \quad 12-9=$$
$$14-9= \quad 12-8= \quad 17-9= \quad 16-9= \quad 12-7=$$

二、连一连。

$$12-6 \quad 16-8 \quad 11-8 \quad 14-5$$

$$17-9 \quad 11-5 \quad 16-7 \quad 12-9$$

三、在○里填上“>”“<”或“=”。

$$13-4 \bigcirc 8 \quad 12-3 \bigcirc 7 \quad 6+9 \bigcirc 14 \quad 14-5 \bigcirc 9$$

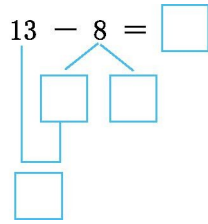
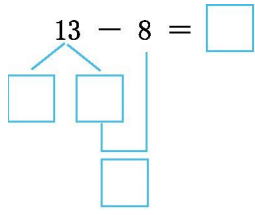
$$11-6 \bigcirc 6 \quad 4+7 \bigcirc 12 \quad 13-5 \bigcirc 6 \quad 14-7 \bigcirc 7$$

四、在□里填上合适的数。

$$1. 15 - \square = 8 \quad \square + 6 = 11 \quad 16 - 9 = \square \quad \square - 6 = 8 \quad \square + 6 = 18 -$$

□

2.




五、看图列式计算。



$$\square - \square = \square \quad \square - \square = \square$$

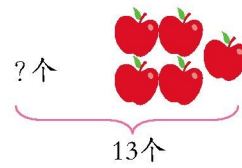
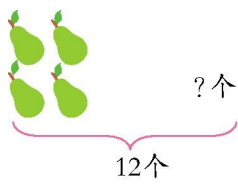
2.



比 少 \square 个。 比 多 \square 个。

$$\square \bigcirc \square = \square \text{ (个)} \quad \square \bigcirc \square = \square \text{ (个)}$$

3.



$$\square \bigcirc \square = \square \text{ (个)}$$

$$\square \bigcirc \square = \square \text{ (个)}$$

六、解决问题。



1. 小灰兔和小白兔一共拔了 13 根萝卜。



小白兔拔了多少根萝卜？

2.

		
7 盆	6 盆	15 盆

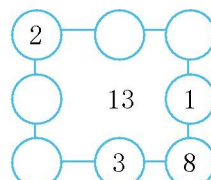
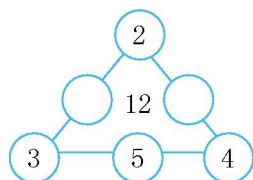
- (1)  比  少几盆？ (2) 提一个用减法计算的问题,并解答。

3. 小华要给 15 棵小树苗浇水，还剩几棵没浇？



七、动脑筋。

在圆圈里填上合适的数字,使每条直线上三个数字的和都等于中间的数。



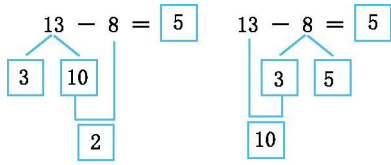
参考答案

一、7 4 8 8 7 6 5 9 7 3 5 4 8 7 5

二、第一行得数分别是6、8、3、9,第二行得数分别是8、6、9、3,连线略。

三、> > > = < < > =

四、1. 7 5 7 14 答案不唯一,如:3 9



2.

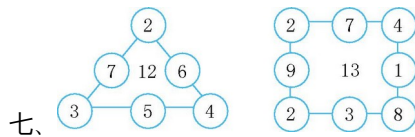
五、1. 13 8 5 13 5 8 2.5 14-9=5

5 14-9=5 3. 12-4=8 13-5=8

六、1. 13-7=6(根)

2. (1)15-6=9(盆) (2)略

3. 15-8=7(棵)



七、