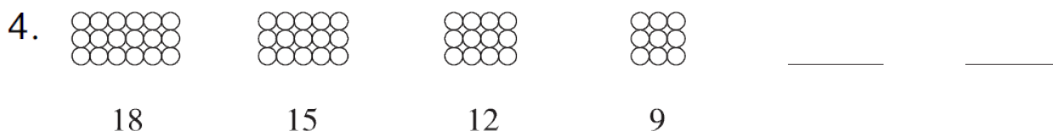
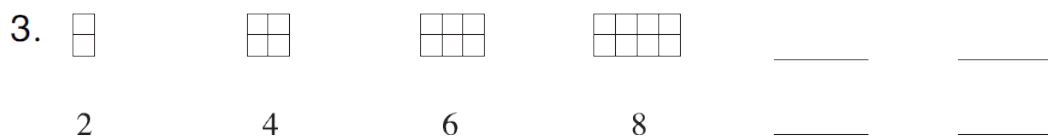
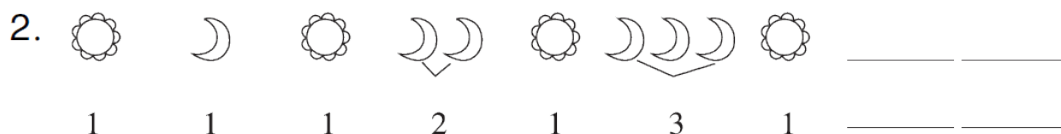
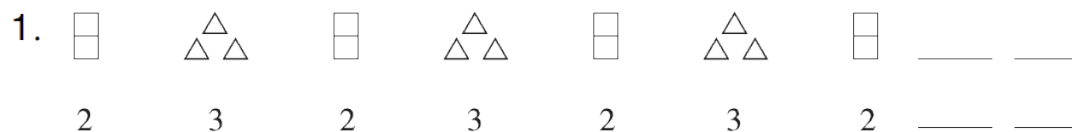


第七单元达标测试卷

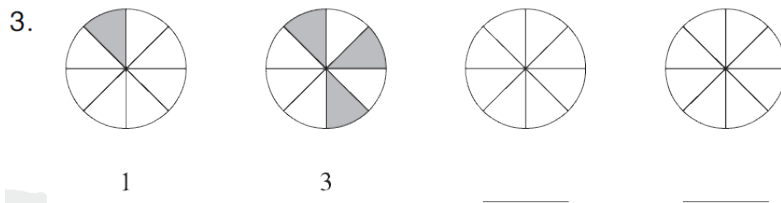
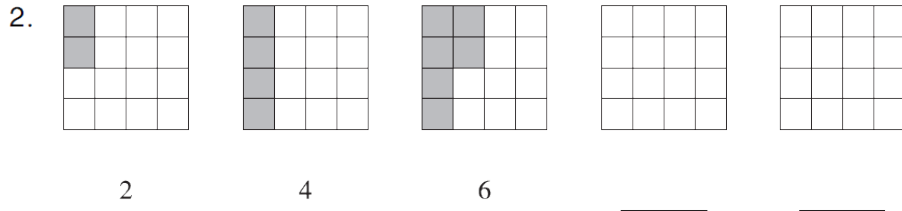
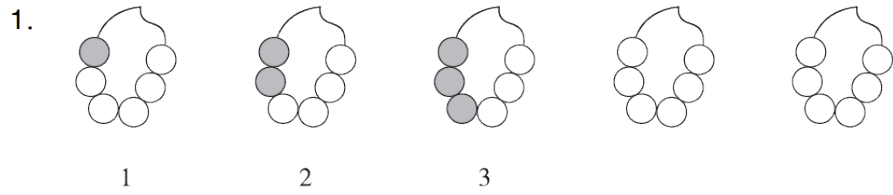
一、下一个是什么？圈出来。(每题2分，共10分)



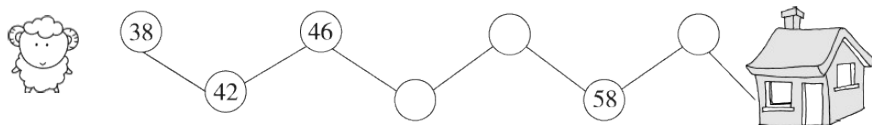
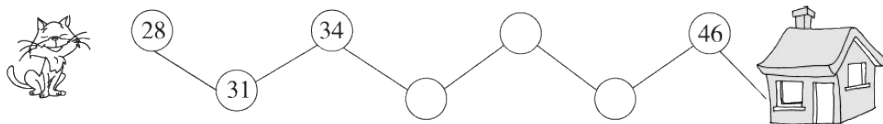
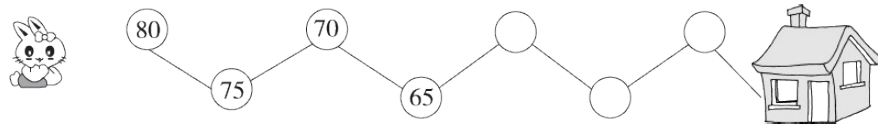
二、按规律画一画，填一填。(每题4分，共16分)



三、接着涂一涂，填一填。(每题6分，共18分)



四、按规律，把小动物送回家。(18分)



五、哪一组和其他三组的规律不一样，请在相应的()里画“√”。

(每题 4 分，共 8 分)

1.

2	4	6	8	10
---	---	---	---	----

 ()

9	10	11	12	13
---	----	----	----	----

 ()

7	9	11	13	15
---	---	----	----	----

 ()

30	32	34	36	38
----	----	----	----	----

 ()

2.

23	24	25	26	27
----	----	----	----	----

 ()

85	75	65	55	45
----	----	----	----	----

 ()

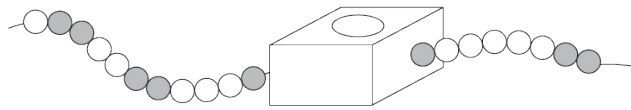
55	56	57	58	59
----	----	----	----	----

 ()

90	91	92	93	94
----	----	----	----	----

 ()

六、想一想，填一填。(6分)



箱子中有()颗●，()颗○。

七、按规律填一填。(每空2分，共12分)

1.

30 ┌───┐ │ 10 │ └───┘ 20	42 ┌───┐ │ 37 │ └───┘ 5	23 ┌───┐ │ 6 │ └───┘	┌───┐ │ 53 │ └───┘ 9
--------------------------------------	-------------------------------------	-------------------------------	-------------------------------

2.

30 ┌───┐ │ 90 │ └───┘ 20 40	34 ┌───┐ │ 48 │ └───┘ 6 8	60 ┌───┐ │ 35 │ └───┘ 5	┌───┐ │ 80 │ └───┘ 8 10
---	---------------------------------------	-------------------------------------	----------------------------------

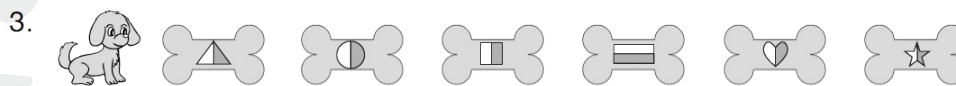
3.

6 ┌───┐ │ 2 │ └───┘ 4	10 ┌───┐ │ 4 │ └───┘ 6	14 ┌───┐ │ 6 │ └───┘ 8	18 ┌───┐ │ ○ │ └───┘ 10
-----------------------------------	------------------------------------	------------------------------------	-------------------------------------

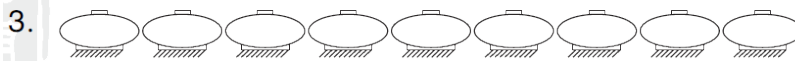
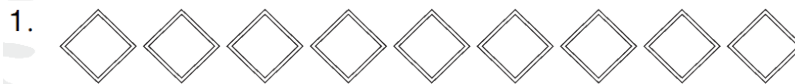
4.

3 ┌───┐ │ 6 │ └───┘ 1 2	2 ┌───┐ │ 13 │ └───┘ 5 6	10 ┌───┐ │ 40 │ └───┘ 10 20	┌───┐ │ 45 │ └───┘ 5 10
-------------------------------------	--------------------------------------	---	----------------------------------

八、各去掉一个，让小动物的食物排列有规律。(每题2分，6分)



九、有规律地涂色。(每题 2 分，共 6 分)

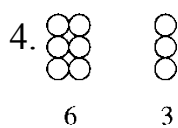
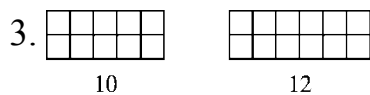
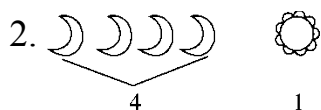
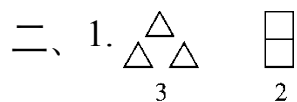


答案

一、1. 圈第 2 个 2. 圈第 1 个

3. 圈第 2 个 4. 圈第 1 个

5. 圈第 2 个



三、1. 4 5 (涂4个, 涂5个)

2. 8 10 (涂8个, 涂10个)

3. 5 7 (涂5个, 涂7个)

四、60 55 50 37 40 43 50 54 62

五、1. 给第2组画√

[点拨]第1、3、4组每相邻两个数之间相差2, 第2组每相邻两个数之间相差1。

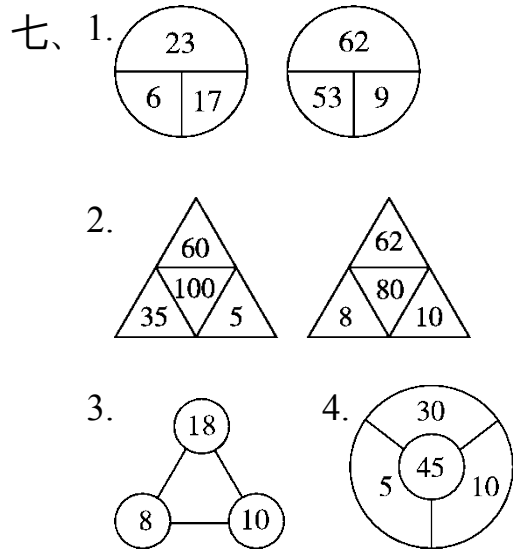
2. 给第2组画√ [点拨]第2组每相邻两个数之间相差5, 其余3

组每相邻两个数之间相差1。

六、2 4 [点拨]珠子的规律是1白2黑, 2白2黑, 3白2黑, …

…，白珠子在不断地增加，黑珠子不变，箱子前面有一颗黑珠子

后面有一颗黑珠子，所以箱子里一定有 4 颗白珠子，2 颗黑珠子。



八、1. 去掉 38 2. 去掉 50 3. 去掉第 4 个

九、略