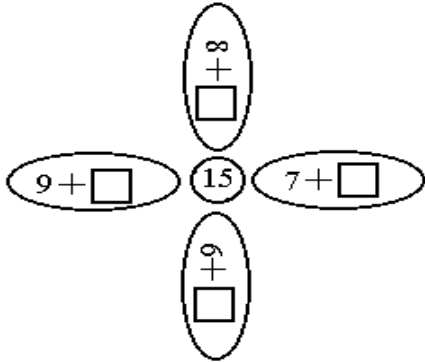


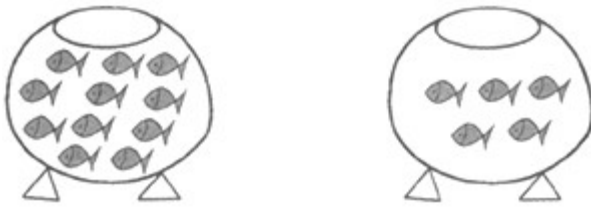
2023年人教版小学一年级数学下册第二单元测试卷

一、填空题(共6题；共25分)

1. (4分) 按上、左、右、下的顺序填写。



2. (6分) 说一说图意再列算式计算。



_____ + _____ = _____

_____ - _____ = _____

_____ - _____ = _____

3. (6分) 填一填。

$7 + \underline{\quad} = 16$

$4 + \underline{\quad} = 13$

$3 + \underline{\quad} = 12$

$14 - 9 = \underline{\quad}$

$15 - 9 = \underline{\quad}$

$17 - 9 = \underline{\quad}$

4. (3分) 小花园。



有 _____ 朵， 有 _____ 朵， 比 少 _____ 朵， 比

多 _____ 朵。

20. (8分) 在□里填上合适的数, 使花瓣上的得数和花蕊上的得数相同。

(1) (4分)

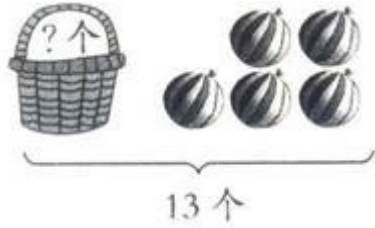
(2) (4分)


21. (5分)

五、解答题(共 6 题 ; 共 30 分)

22. (5分) 一本书有 14 页, 看了一些后, 还有 5 页没看, 看了多少页?

23. (5分) 看图列式。



24. (5分) 一共有12个 。

(1) (1分) 左边有5个，右边有几个？

(2) (1分) 花皮球有6个，白皮球有几个？

25. (5分) 红红买了14本课外书和13个笔记本，课外书中有5本故事书，其它课外书有几本？

26. (5分) 白兔比灰兔多几只？



27. (5分) 妈妈在微信上抢红包，第一次抢了8元，第二次抢了15元，还发一个9元的红包。第一次比第二次少抢多少元？

$$\square \bigcirc \square = \square (\quad)$$

口答：第一次比第二次少抢()元。

答案解析部分

1. 【答案】7；6；8；9

【知识点】十几减9的退位减法；十几减8、7、6的退位减法

2. 【答案】11；5；16；16；5；11；16；11；5

【知识点】20以内的不进位加法；20以内的不退位减法

【解析】【解答】 $11 + 5 = 16$

$$16 - 5 = 11$$

$$16 - 11 = 5$$

3. 【答案】9；9；9；5；6；8

【知识点】十几减9的退位减法

【解析】【解答】 $7 + 9 = 16$ ； $4 + 9 = 13$ ； $3 + 9 = 12$ ；

$$14 - 9 = 5$$
； $15 - 9 = 6$ ； $17 - 9 = 8$.

故答案为：9；9；9；5；6；8.

【分析】已知和与一个加数，求另一个加数，用和-一个加数=另一个加数，据此列式计算；







计算十几减9的退位减法，可以利用做减法想加法的方法解答.

4. 【答案】5；14；9；9

【知识点】十几减5、4、3、2的退位减法

【解析】【解答】



 有5朵， 有14朵， 比  少9朵， 比  多9朵。

故答案为：5；14；9；9。

【分析】数一数可知， 有5朵， 有14朵，要求 比  少几朵，

比  多几朵，用减法计算，据此解答。

5. 【答案】9；8；9；7

【知识点】十几减9的退位减法；十几减8、7、6的退位减法

6. 【答案】8；8

【知识点】十几减8、7、6的退位减法

【解析】【解答】解：口算14-6时，可以这样想：8+6=14，所以14-6=8。

故答案为：8；8。

【分析】减法是加法的逆运算，所以口算减法时，可以先想想差+减数=被减数，进而即可得出答案。

7. 【答案】C

【知识点】20以内数的排序；十几减5、4、3、2的退位减法

【解析】

8. 【答案】B

【知识点】十几减8、7、6的退位减法

【解析】【解答】16-7=9（根）

故答案为：B。

【分析】根据题意可知，学生的总人数-现在的跳绳根数=还差的跳绳根数，据此列式解答。

9. 【答案】B

【知识点】十几减8、7、6的退位减法

【解析】【解答】□+7=16

$$\square=16-7$$

$$\square=9$$

故答案为：B。

【分析】在加法里，已知和与一个加数，要求另一个加数，和-一个加数=另一个加数，据此解答。

10. 【答案】C

【知识点】十几减8、7、6的退位减法；十几减5、4、3、2的退位减法

【解析】【解答】15-6，把15看成是10+5，10-6=4，4+5=9.15-6=9。16-7=

9, $11 - 5 = 6$ 可见 C 为正确答案

【分析】考查减法基本运算

11. 【答案】A

【知识点】十几减 8、7、6 的退位减法

【解析】【解答】原来有 15 辆车，现在是 6 辆车，求开走了几辆，就是 $15 - 6 = 9$ 辆，所以答案是 A。

【分析】考查基本减法的运算

12. 【答案】A

【知识点】十几减 9 的退位减法

【解析】【解答】根据上学期所学， $9 + 5 = 14$

【分析】一个数加上 9 等于 14，可以推算出这个数是 5

13. 【答案】(1) 错误

【知识点】十几减 8、7、6 的退位减法

【解析】【解答】解： $14 - 8 = 6$ ；

$8 + 7 = 15$ ，所以 $14 - 8 < 8 + 7$ 。

故答案为：错误。

【分析】十几减 8、7、6、5 的退位减法，用“破十法”计算；8、7、6、5 加几的进位加法，用“凑十法”计算；分别计算出结果后再比较大小。

14. 【答案】(1) 错误

【知识点】十几减 8、7、6 的退位减法

【解析】【解答】 $12 - 8 = 4$

【分析】有 12 个风车，买了 8 个以后，剩下 $12 - 8 = 4$ 个风车

15. 【答案】(1) 正确

【知识点】十几减 8、7、6 的退位减法

【解析】【解答】 $13 - 7 = 6$ ，所以还剩下 6 个

【分析】有 13 个糖，小明吃了 7 个以后，还有 $13 - 7 = 6$ 个没有吃

16. 【答案】(1) 错误

【知识点】十几减 5、4、3、2 的退位减法

【解析】【解答】解： $12 - 5 = 7$ ， $7 - 1 = 6$ ，所以 $12 - 6 > 5$ 。

故答案为：错误。

【分析】减数=被减数-差，□里最大能填的数=减数-1。

17. 【答案】 (1) 错误

【知识点】十几减8、7、6的退位减法

【解析】【解答】 $17 - 8 = 9$ ，所以还剩下9个

【分析】有17个桃子，摘下来8个以后，还剩下 $17 - 8 = 9$ 个

18. 【答案】 (1) 正确

【知识点】十几减8、7、6的退位减法

【解析】【解答】12枝花插在2个花瓶里，一个花瓶插6枝，另一个花瓶插6枝。原题说法正确。

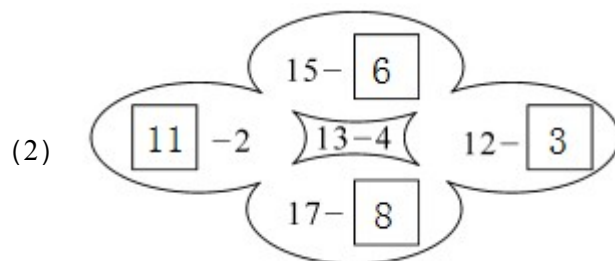
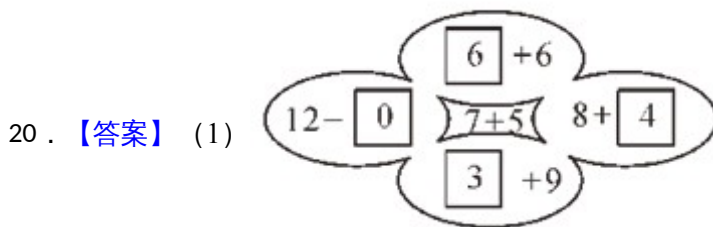
故答案为：正确。

【分析】因为不是平均分，所以只要两只花瓶插花的枝数的和是12即可。

19. 【答案】 解： $12 - 7 = 5$ ； $12 - 4 = 8$ ； $12 - 9 = 3$ ； $12 - 6 = 6$ ； $13 - 5 = 8$ ； $13 - 9 = 4$ ； $13 - 7 = 6$ ； $13 - 4 = 9$

【知识点】十几减9的退位减法；十几减8、7、6的退位减法；十几减5、4、3、2的退位减法

【解析】【分析】例如 $12 - 7$ ，把12分成10和2，先算 $10 - 7 = 3$ ，再算 $2 + 3 = 5$ ，所以 $12 - 7 = 5$ ，按照这样的方法计算即可。



【知识点】十几减9的退位减法；十几减8、7、6的退位减法；十几减5、4、3、2的退位减法

【解析】【分析】根据题意可知，先计算出中间算式的得数，然后根据加减法之间的

关系，被减数-减数=差，被减数-差=减数，和-一个加数=另一个加数，据此解答。

21. 【答案】 $13-5=8$ (个)

【知识点】十几减 5、4、3、2 的退位减法

【解析】【解答】解： $13-5=8$ (个)

【分析】篮子里有蘑菇的个数=一共有蘑菇的个数-篮子外面有蘑菇的个数，据此列式作答即可。

22. 【答案】 $14-5=9$ (页)

答：看了 9 页。

【知识点】十几减 5、4、3、2 的退位减法

【解析】【分析】根据题意可知，一本书的总页数-没有看的页数=看了的页数，据此列式解答。

23. 【答案】 $13-5=8$ (个)

【知识点】十几减 5、4、3、2 的退位减法

【解析】【分析】一共有 13 个，篮子外面有 5 个，用总数减去篮子外面的个数即可求出篮子里面的个数。

24. 【答案】(1) $12-5=7$ (个)

答：右边有 7 个。

(2) $12-6=6$ (个)

答：白皮球有 6 个。

【知识点】十几减 8、7、6 的退位减法；十几减 5、4、3、2 的退位减法

【解析】【分析】(1) 根据题意可知，用皮球的总个数-左边的个数=右边的个数，据此列式解答；

(2) 根据题意可知，用皮球的总个数-花皮球的个数=白皮球的个数，据此列式解答。

25. 【答案】 $14-5=9$ (本)

答：其它课外书有 9 本。

【知识点】十几减 5、4、3、2 的退位减法

【解析】【分析】根据题意，课外书总数减去故事数本数，就是其它课外书的本数，据此代入数据解答即可。

26. 【答案】 $13-7=6$ (只)

答：白兔比灰兔多 6 只。

【知识点】 十几减 8、7、6 的退位减法

【解析】 【分析】 求一个数比另一个数多几用减法。

27. **【答案】** $15-8=7$ (元)

口答：第一次比第二次少抢 7 元。

【知识点】 十几减 8、7、6 的退位减法

【解析】 【分析】 第一次比第二次少抢的钱数=第二次抢的钱数-第一次抢的钱数，代入数值计算即可。

试题分析部分

1、试卷总体分布分析

总分：100分		
分值分布	客观题 (占比)	41.0(41.0%)
	主观题 (占比)	59.0(59.0%)
题量分布	客观题 (占比)	16(59.3%)
	主观题 (占比)	11(40.7%)

2、试卷题量分布分析

大题题型	题目量 (占比)	分值 (占比)
填空题	6(22.2%)	25.0(25.0%)
解答题	6(22.2%)	30.0(30.0%)
计算题	3(11.1%)	21.0(21.0%)
单选题	6(22.2%)	12.0(12.0%)
判断题	6(22.2%)	12.0(12.0%)

3、试卷难度结构分析

序号	难易度	占比
1	普通	(96.3%)

2	困难	(3.7%)
---	----	--------

4、试卷知识点分析

序号	知识点 (认知水平)	分值 (占比)	对应题号
1	十几减 8、7、6 的退位减法	59.0(59.0%)	1,5,6,8,9,10,11, 13,14,15,17,18, 19,20,24,26,27
2	十几减 5、4、3、2 的退位减法	50.0(50.0%)	4,7,10,16,19,20 ,21,22,23,24,25
3	十几减 9 的退位减法	32.0(32.0%)	1,3,5,12,19,20
4	20 以内的不进位加法	6.0(6.0%)	2
5	20 以内数的排序	2.0(2.0%)	7
6	20 以内的不退位减法	6.0(6.0%)	2