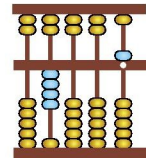
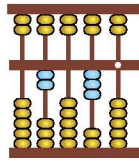
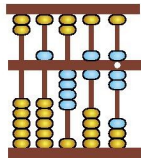
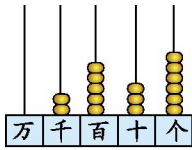


第七单元检测

一、看图读数、写数。



读作:() 读作:() 读作:() 读作:(
)

写作:() 写作:() 写作:() 写作:(
)

二、想一想,填一填。

1.10个一百是(),10个一千是()。

2.10000里面有()个百,1000里面有()个十。

3.在数位顺序表中,从右边起,百位是第()位,第五位是()位,
千位是第()位。

4.由6个千、3个百和9个十组成的数是()。

5.9997后面连续的三个数是()、()、()。

6.56个百是();7800里有()个百。

7.894是()位数,最高位是()位;10000是()位数,最高
位是()位。

8.用0、0、5、9这四个数字,可以组成()个不同的四位数,其中
最大的数是(),最小的数是()。

9.一台彩色电视机的售价是3908元,约是()元。

10.找规律填数。

小军家离学校多少米?(画“○”);小强家离学校多少米?(画“△”)

750 米	850 米	1000 米	1600 米

六、按要求组数。



1.组成只读一个“零”的四位数有() ;组成一个

“零”都不读的四位数有()。

2.把上面填的数按从大到小的顺序排一排: _

七、解决问题。

1.第一候车厅有 1200 人,第二候车厅有 800 人,两个候车厅一共有多少人?

2.走进高铁时代,人们可以亲身体验高铁给人们带来的快捷、舒适、安全等全新感受。你能根据下面的信息提出一些数学问题吗?解答出来。



每秒行驶400米



每秒行驶800米

参考答案

一、二千五百三十六 2536 五千四百六十七 5467 二千零三十 2030 四千零五 4005

二、1.1000 10000

2.100 100

3.三 万 四

4.6390

5.9998 9999 10000

6.5600 78

7.三 百 五 万

8.6 9500 5009

9.4000

10.(1)7000 7010 7020 (2)2500 2600 2700

(3)8998 8999 9000

三、1、< > > <

2.(1)3255 2355 989 978

(2)4567 5897 5987 6000

四、1600 2000 2000 800 600 210 7600 9000

五、略

六、1.9003 9030 3090 3009 9300 3900

2.9300>9030>9003>3900>3090>3009

七、1. $1200+800=2000$ (人)

2. 答案不唯一,如:高铁比普通列车每秒多行驶多少米?

$$800-400=400\text{(米)}$$