

## 第二单元检测卷 (2)

一、算一算,写一写。

$8+5=$

$8+6=$

$8+7=\square$

$13-5=$

$14-6=$

$15-7=\square$

$13-8=$

$14-8=$

$15-8=\square$

二、在○里填上“>”“<”或“=”。

$13-4 \bigcirc 8$

$16-8 \bigcirc 5$

$14-7 \bigcirc 7$

$12-5 \bigcirc 6$

$17-9 \bigcirc 8$

$11-2 \bigcirc 9$

$14-6 \bigcirc 9$

$16-9 \bigcirc 9$

$14-8 \bigcirc 7$

$12-4 \bigcirc 13-5$

$17-9 \bigcirc 17-8$


$11-3 \bigcirc 12-3$

三、照样子,连一连。

|      |   |
|------|---|
| 11-3 | 4 |
| 12-8 | 8 |
| 15-9 | 3 |
| 12-9 | 6 |

|      |   |
|------|---|
| 17-8 | 5 |
| 14-9 | 6 |
| 11-5 | 8 |
| 15-7 | 9 |

四、数一数,填一填,算一算。



|   |      |
|---|------|
| ▲ | ( )个 |
| ● | ( )个 |
| ■ | ( )个 |


1.▲比●少几个?

$\square \bigcirc \square = \square ( \quad )$

2. ■比▲多几个?

$$\square \bigcirc \square = \square ( \quad )$$

五、谁多?多几只?



$$\square \bigcirc \square = \square ( \quad )$$



$$\square \bigcirc \square = \square ( \quad )$$

六、解决问题。

1. 树上共有 16 个松果。



小松鼠摘走了几个松果?

$$\square \bigcirc \square = \square ( \quad )$$

2. 已经折好了 8 串。



还需要折几串?

$$\square \bigcirc \square = \square ( \quad )$$

3.下面是新新水果店的水果数量。

|   |   |   |
|---|---|---|
|  |  |  |
| 15 箱  | 9 箱   | 7 箱   |

(1)  比  少几箱?

$$\square \bigcirc \square = \square (\quad)$$

(2)你还能提出其他数学问题吗?解答出来。

七、小客车比小轿车少多少辆?

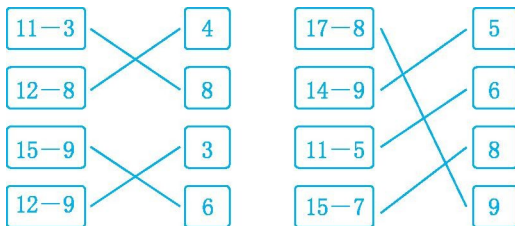


停车场里有小客车8辆，  
小轿车和大客车共有17辆，  
其中大客车5辆。

### 参考答案

一、(从上到下)13 8 5 14 8 6 15 8 7

二、> > = > = = < < < = < <



三、

四、6 11 15

1.  $11-6=5$ (个) 2.  $15-6=9$ (个)

五、小鸡多  $14-5=9$ (只)

小兔多  $12-4=8$ (只)

六、1.  $16-7=9$ (个)

2.  $13-8=5$ (串)

3. (1)  $15-9=6$ (箱) (2)(答案不唯一)苹果比草莓多几箱?  $15-7=8$ (箱)

七、 $17-5-8=4$ (辆)