

周测培优卷 4

一、涂一涂，填一填。(10分)

把学习用品涂上你喜欢的颜色。



种学习用品

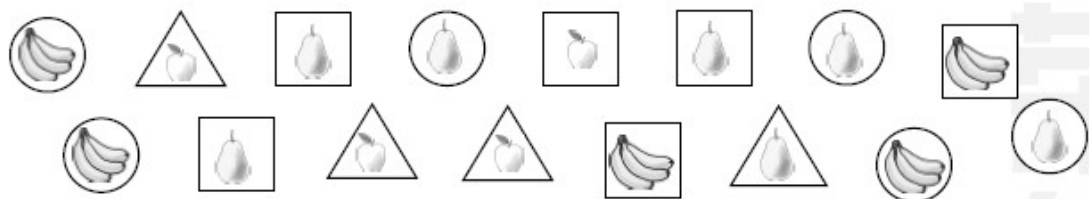
二、分一分，数一数。(每题4分，共8分)



	带把手	不带把手
个数		

	灰色	白色
个数		

三、我会分类整理。(每题12分，共24分)



1. 按卡片的形状分一分，在下面涂一涂，填一填。

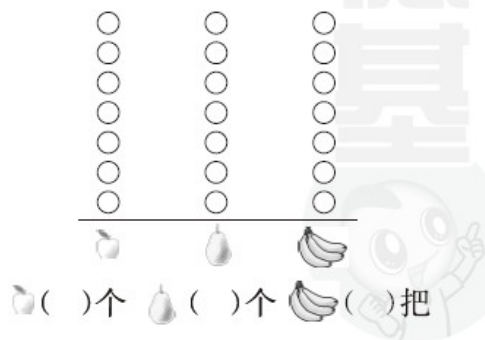
○	□	△
○	□	△
○	□	△
○	□	△
○	□	△
○	□	△
○	□	△
○	□	△
○	□	△
○	□	△

○ □ △

○()个 □()个


△()个

2. 按水果的种类分一分，在下面涂一涂，填一填。



四、走进生活，我会整理。(共 58 分)

1. 一(2)班同学最喜欢的颜色的情况如下图。((1)题 16 分，(2)题 12 分，共 28 分)




(1) 根据左图填写下表。

	红色	黄色	蓝色	绿色
人数				

(2) 根据上面的统计结果解答下列各题。

- ① 喜欢什么颜色的人数最多？
- ② 喜欢哪两种颜色的人数同样多？
- ③ 你还能提出什么数学问题并解答？

2. 我会整理扑克牌。(1)题 18 分，(2)、(3)题每题 6 分，共 30 分)



(1) 把分类的结果填在下表。

数字扑克	5	6	9
张数			

花色扑克	红桃	梅花	方块
张数			

(2) 花色是方块的有()张，它们的数字和是()。

$$\square \bigcirc \square = \square$$

(3) 如果想一共有 11 张梅花的，那还需要添几张？

$$\square \bigcirc \square = \square (\quad)$$

口答：喜欢黄色的人数比喜欢红色的人数多 3 人。

(答案不唯一)

2. (1)

数字扑克	5	6	9
张数	3	3	2

花色扑克	红桃	梅花	方块
张数	3	3	2

(2) $2 \times 11 - 6 + 5 = 11$

(3) $11 - 3 = 8$ (张)