

第一单元检测

一、填空题。

- 1.地图通常是按上()、下()、左()、右()绘制的。
- 2.把手表平放在桌面上,将数字 12 正对着北面,则正对着南面的数字是(),数字 3 正对着()面。
- 3.背对北极星,前面是(),左面是(),右面是()。
- 4.小明和小立背靠背站立,小明面向北,小立面向()。

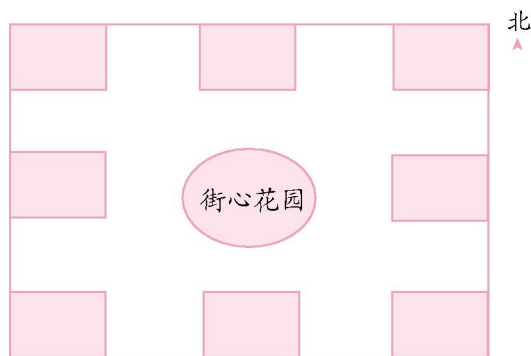
二、选择题。(把正确答案的序号填在括号里)

- 1.太阳从()边升起,从()边落下。
A.东 B.西 C.南 D.北
- 2.与北极星所在方向相对的是()。
A.东 B.南 C.西 D.北
- 3.小明座位的西南方向是张强的座位,那么小明在张强的()方向。
A.东南 B.西北 C.东北 D.西南
- 4.三(1)班教室的黑板在教室的西面,那么老师讲课时背对着黑板,面向()面。
A.东 B.南 C.西 D.北
- 5.张丽面向南站立,她的左面是()。
A.东 B.西 C.北 D.南

三、判断题。(正确的画“0”,错误的画“×”)

- 1.人的影子在西边,太阳应在东边。()
- 2.和西北相对的方向是西南。()
- 3.在森林中可以利用树叶的疏密来识别方向。()
- 4.面对早晨的太阳,你的右边是南面。()

四、操作实践题。

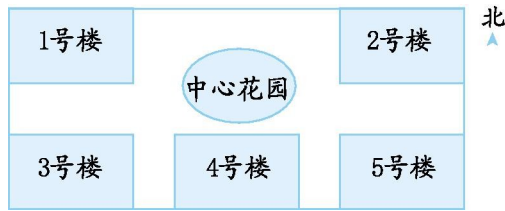


请你根据以下叙述,在图中填出相应的名称。

- 1.医院在街心花园的北面。
- 2.街心花园的西南面是光明小学。
- 3.银行在街心花园的西北面。
- 4.邮局在街心花园的西面。
- 5.商场在街心花园的东南面。
- 6.派出所在街心花园的东北面。

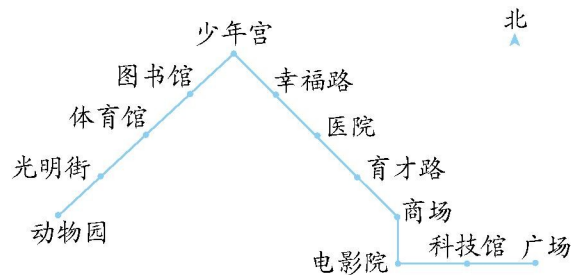
五、解决问题。

- 1.下面是某小区的平面图。



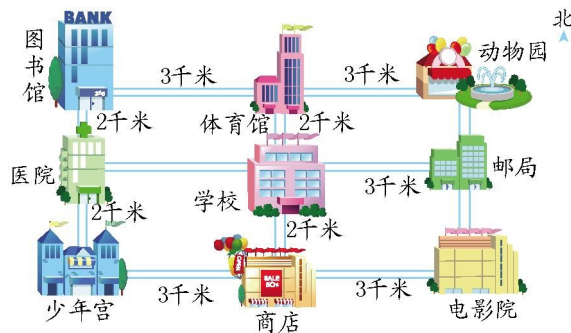
- (1) 1号楼在中心花园的()方向;3号楼在中心花园的()方向;4号楼在中心花园的()面。
- (2) 4号楼在2号楼的()方向;1号楼在2号楼的()面。
- (3) 中心花园在()的北面,()的西北面,2号楼的()方向。
- (4) 5号楼的西面有()号楼和()号楼。

2.下面是1路车的部分行车路线。



- (1) 从广场出发向()行驶()站到电影院,再向()行驶()站到商场,再向()行驶()站到少年宫,再向()行驶()站到动物园。
- (2) 写出从动物园到广场的路线。

3.算一算,填一填。



- (1) 少年宫在商店的()面,在学校的()面。
- (2) 冬冬从学校到邮局至少要走()千米。
- (3) 写出明明从少年宫到体育馆的行走路线。

参考答案

一、1.北 南 西 东

2.6 东

3.南 东 西

4.南

二、1.A B 2.B 3.C 4.A 5.A

三、1.□ 2.× 3.□ 4.□

四、略

五、1.(1)西北 西南 南

(2)西南 西

(3)4号楼 5号楼 西南

(4)3 4

2.(1)西 2 北 1 西北 4 西南 4

(2)从动物园出发向东北行 4 站到少年宫,再向东南行 4 站到商场,再向南行 1 站到电影院,最后向东行 2 站到广场。

3.(1)西 西南

(2)3

(3)答案不唯一,如:从少年宫出发向东走 3 千米到商店,然后向北走 4 千米到体育馆。