

















周测培优卷 10

一、后面一个是什么？圈一圈。(每题 3 分，共 12 分)

1.  _____ ( )
2.  _____ ( )
3.  _____ (  )
4.  _____ ( )

二、我会涂。(共 15 分)


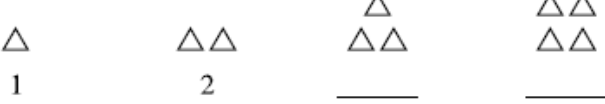
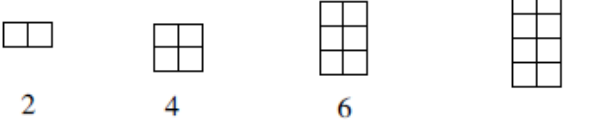
1. 按规律接着涂。(每题 3 分，共 9 分)

- (1) 
- (2) 
- (3) 

2. 我会有规律地涂色。(每题 3 分，共 6 分)

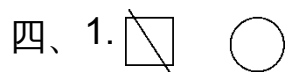
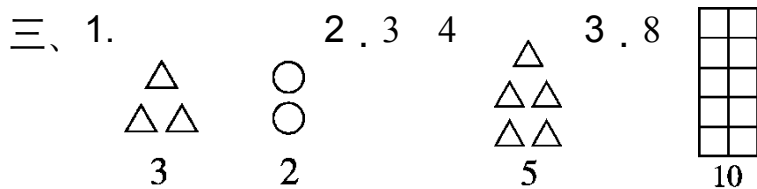
- (1) 
- (2) 

三、找规律画一画，填一填。(每空 2 分，共 22 分)

1.  _____
2.  _____
3.  _____

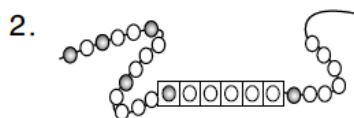
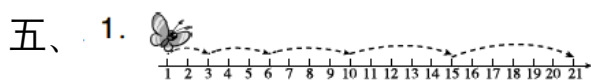


(涂色不唯一)



3. 找规律

4. ~~23~~ 24



3. 黄 6 5

[点拨] $17 - 3 - 3 - 3 - 3 - 3 = 2$ (面), 余下的 2 面分别是一面红旗和一面黄旗。因此, 红旗有 $5 + 1 = 6$ (面)。