
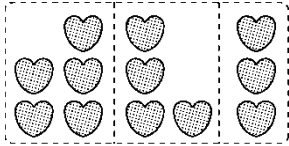



周测培优卷 2

一、把 12 个  平均分成 3 份，下面哪一种分法是正确的？在()


里画“√”。(10 分)



()



()



()

二、我会填。(每题 4 分，共 20 分)




把 8 个芒果放在 2 个盘子里，每盘放的一样多，每盘放()个。



有()个南瓜，每 2 个一份，能分成()份，算式是()。

3. 写出 2 道被除数是 15 的除法算式：()和()。

4. 一个木偶 30 元，付 5 元一张的人民币，要付()张。



5. 有 18 个三角形。

(1)每3个三角形摆一个风车，可以摆()个风车。

(2)用这些三角形摆了6条同样的小鱼，每条小鱼用了()个三角形。

三、我会辨。(对的画“√”，错的画“×”)(每题4分，共12分)

1. 除数是6，商是3，那么被除数是2。()

2. 所有的口诀都能写出两道乘法算式和两道除法算式。()

3. 在除法里商一定小于被除数。()

四、计算挑战。(共22分)

1. 直接写出得数。(每题1分，共8分)

$3 \times 9 =$

$15 - 10 =$

$20 \div 5 =$

$32 + 8 =$

$18 \div 3 =$

$9 \div 3 =$


$10 \div 2 =$

$16 \div 4 =$

2. 我会算。(每空2分，共14分)

被除数	12	30		24		10	12
除数	4		2		3	5	
商		5	4	4	5		6

五、走进生活，解决问题。(1~3题每题6分，4题18分，共36分)



一共有18个凳子。



1.

(1) 6个同学来搬，平均每人搬几个？

$$\square \circ \square = \square (\text{个})$$

(2) 如果明明和他的两个好朋友来搬，那么平均每人搬几个？

$$\square \circ \square = \square (\text{个})$$

2. 剪“福”字，过幸福年。每张纸可以剪2个“福”。

(1) 4张纸可以剪多少个“福”？

$$\square \circ \square = \square (\quad)$$

(2) 小明要剪12个“福”，需要用几张纸？

$$\square \circ \square = \square (\quad)$$


3. 有一些气球，比20个多，比30个少，这些气球有多少个？

把这些气球平均分给6个小朋友，刚好分完。



4. 瞧，新型山地作战坦克开过来了！

(1) 每行排5辆，3行排了多少辆？



(2)这些新型山地作战坦克，每 5 辆排一行，能排几行？

(3)如果开走了 5 辆，还剩多少辆新型山地作战坦克？

答案

一、1.940200 九十四万零二百 94

2 . 21 9 75 七成五

3 . $0.45 > 0.454 > 45\% >$

4.*d*

5 . $-1.5(\text{或 } -1)$ -1 $0.5(\text{或})$

6 . 6 8 7.150.72