

第6单元过关检测卷

一、填一填。(每空1分,共31分)

1. 计算 $38 - 30 + 6$ 时,先算()法,再算()法。

2. 计算 $65 - (21 + 9)$ 时,先算()法,再算()法,结果是()。

3. 78 比 50 多(), 7 比 54 少()。

4. 在()里填上合适的数。

$$() + 45 = 50 \quad 72 - () = 32 \quad 36 + () = 56 - ()$$

$$60 + () > 65 \quad 20 + 40 > () \quad () - 5 < 32$$

5. 在 \bigcirc 里填上“>”“<”或“=”。

$$83 + 6 \bigcirc 83 - 6 \quad 58 - 9 \bigcirc 58 - 6 \quad 45 + 20 \bigcirc 45 + 2$$

$$74 + 6 \bigcirc 82 - 6 \quad 78 - 5 \bigcirc 58 + 6 \quad 35 + 40 \bigcirc 55 + 20$$


6. 40 连续减 4, 写出每次减得的差。

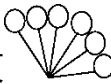
$$40 \quad 36 \quad () \quad () \quad () \quad ()$$

7. 50 连续加 6, 写出每次加得的和。

$$50 \quad 56 \quad () \quad () \quad () \quad ()$$

8. 

用 22 根小棒可以拼成()个 , 还剩()根。

9. 3 束 , 每人分一个, ()分给 15 个小朋友。(填“够”或“不够”)

二、辨一辨。(对的画“√”, 错的画“×”)(每题 1 分, 共 5 分)

1. 7 + 6 的和的十位是 5, 那么 里填 5。()

2. 35 连续减 7, 减 5 次, 结果为 0。()

3. 因为 $2 + 2 + 3 = 7$, 所以 $20 + 20 + 30 = 70$ 。()

4. $67 - 2 - 4 = 67 - (2 + 4)$ ()

5. $38 - \square > 30$, 里最大填 2。()

三、算一算。(共 24 分)

1. 口算。(8 分)

$20 + 45 =$

$65 - 8 =$

$80 - 7 =$

$33 + 9 =$

$26 - 8 =$

$20 + 80 =$

$34 - 6 =$

$63 - 6 =$

2. 算一算。(8 分)

$23 - 5 + 20 =$

$52 + (15 - 9) =$

$37 + 3 - 8 =$

$86 - (68 - 8) =$

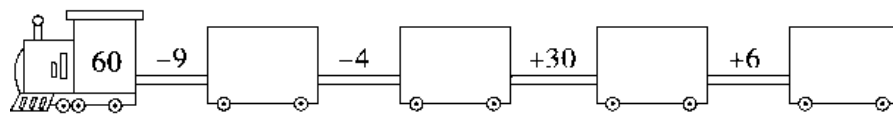
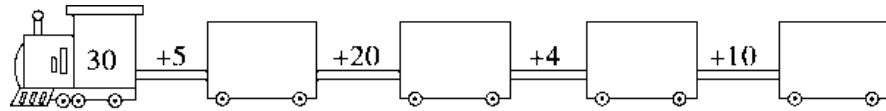
$43 - (15 + 5) =$

$35 + 20 - 9 =$

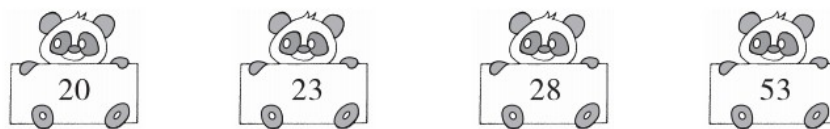
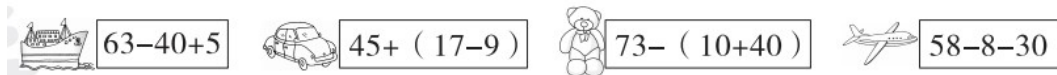
$40 + (32 - 7) =$

$65 - (12 + 8) =$

3. 开火车。(8分)



四、连一连。(8分)






五、解决问题。(共 32 分)

1. 一共有多少人参加独轮车表演?(4分)



2. 下面是妈妈昨天网购的三种物品的价格。(9分)

		
30元	8元	48元

(1)鞋子比闹钟贵多少钱?

(2)闹钟比娃娃便宜多少钱?

(3)你能再提一个数学问题并解答吗?

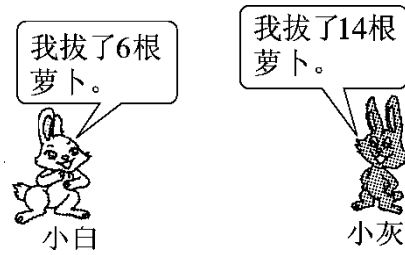
3. 这个房间一共要铺多少块地砖?(5分)

我们已经铺了36块
地砖。



再铺9块地砖,
这个房间就
铺好了。

4. 地里一共长了 28 根萝卜。现在地里还剩多少根萝卜？(要求算式中有小括号)(5 分)



5. 购物。(9 分)



35元



3元



7元



28元

(1) 买一个足球和一根跳绳共用多少钱？

(2) 一个书包比一支钢笔贵多少钱？

(3)你能再提一个数学问题并解答吗？

答案

一、1.减 加

2.加 减 35

3.28 47

4.5 40 10 10 6 58 36

(后面五个空答案不唯一)

5.> < > > > =

6.32 28 24 20

7.62 68 74 80

8.4 2

9.够









二、1.× 2.√ 3.√ 4.√ 5.×

三、1.65 57 73 42 18 100 28 57

2.38 58 32 26 23 46 65 45

3.35 55 59 69 51 47 77 83

四、

	$63-40+5$		$45+(17-9)$		$73-(10+40)$		$58-8-30$
							
	20	23	28	53			

五、 $1.5 + 5 + 5 + 5 + 5 = 25$ (人)

2 . (1) $30 - 8 = 22$ (元)

(2) $48 - 8 = 40$ (元)

(3)答案不唯一，如：一双鞋子和一个闹钟一共多少钱？

$$30 + 8 = 38(\text{元})$$

3 . $36 + 9 = 45$ (块)

4 . $28 - (6 + 14) = 8$ (根)

5 . (1) $35 + 3 = 38$ (元)

(2) $28 - 7 = 21$ (元)

(3)答案不唯一，如：一个足球的价格比一根跳绳和一支钢

笔的总价贵多少元？

$$35 - (3 + 7) = 25(\text{元})$$