

第七单元检测

一、送小动物回家。



$$6000 - 2000 =$$

$$90 + 300 =$$

$$850 - 200 =$$

$$40 + 200 =$$



$$1800 - 900 =$$

$$2000 + 6000 =$$

$$1500 + 300 =$$

$$40 + 90 =$$



$$250 - 40 =$$

$$900 + 600 =$$

$$100 + 200 =$$

$$800 + 900 =$$



$$600 + 8000 =$$

$$250 + 300 =$$

$$10000 - 6000 =$$

$$170 - 90 =$$



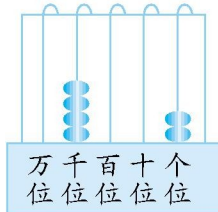
二、填空题。

- 7个百是();4个千和8个十合起来是();15个十是()。
- 5304里面有()个千、()个百和()个一;6007里面有()个千和()个一;7400中的4表示()个()。
- 写出与下面各数相邻的两个数。

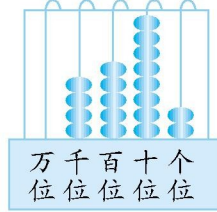
	8240		6000		919

- 有一个四位数,从右边数第二位是5,第四位是9,其余各位都是0,这个数是()。

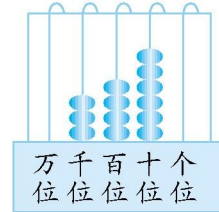
三、看图读数 and 写数。



写作: ()
读作: ()



写作: ()
读作: ()



写作: ()
读作: ()

四、在○里填上“>”“<”或“=”。

$5098 \bigcirc 5908$

$594 \bigcirc 600$

$5040 \bigcirc 4800$

$7900 - 900 \bigcirc 8340$

$400 + 600 \bigcirc 10000$

$40 + 900 \bigcirc 1000 - 400$

五、在□里填上合适的数。

$$600 + \square = 1400$$

$$4500 - \square = 4300$$

$$\square - 70 = 80$$

$$700 + \square = 4700$$

$$1000 - \square = 300$$

$$\square + 500 = 6600$$

六、解决问题。

1.



700元



900元

(1) 买一个柜子和一台吸尘器一共要多少钱? (2) 一个柜子比一台吸尘器便宜多少钱?

2.



400元



4000元



5300元

妈妈买了其中的两样物品。



(1) 最多花去多少钱?

(2) 最少花去多少钱?

3. “青青果山”种植了两种果树,其中桃树有 600 棵。



我们的棵数比桃树多得多。

(1) 苹果树可能有多少棵?(正确的在方格中画“”)

2000 棵	630 棵	500 棵
<input type="checkbox"/>	<input type="checkbox"/>	<input type="checkbox"/>

(2) 利用(1)题的结果,求苹果树比桃树多多少棵。

参考答案

一、240 650 390 4000 130 1800 8000 900 1700 300 1500 210 80 4000
550 8600

二、1.700 4080 150

2.5 3 4 6 7 4 百

3.8239 8241 5999 6001 918 920

4.9050

三、4002 四千零二 4582 四千五百八十二

3460 三千四百六十

四、< < > < < >

五、800 200 150 4000 700 6100

六、1.(1) $700+900=1600$ (元) (2) $900-700=200$ (元)

2.(1) $5300+4000=9300$ (元)

(2) $400+4000=4400$ (元)

3.(1)在2000棵下面画“ \square ”。

(2) $2000-600=1400$ (棵)