

第4单元跟踪检测卷

一、我会写、读生活中的数。(每空1分,共4分)

我今年八十岁了。



写作: ()

我的书包
三十三元。




写作: ()



2022年将在中国举行第24届冬奥会。

读作: ()



瓶子里有100粒豆子。

读作: ()

二、填一填。(每空1分,共23分)

1. 6个十和8个一合起来是(), 100是由()个十组成。

2. 和70相邻的两个数分别是()和()。

3. 一个两位数,十位上的数是3,个位上的数是9,这个数是()。

4. 45后面第三个数是(), 80前面的一个数是()。

5. 比81大比85小的数有()、()、()。

6. 36里面有()个十和()个一。

7.

46	47	48			51	52	
----	----	----	--	--	----	----	--

8. 超市购进43个鸡蛋,每10个装一盒,可以装满()盒。

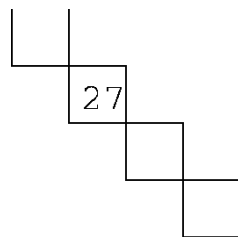
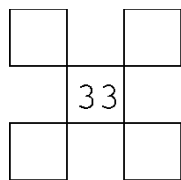


43个



10个/盒

9. 根据百数表在方格里填数。



三、辨一辨。(对的画“√”，错的画“×”)(每题 1 分，共 5 分)

1. 一个数的最高位是十位，这个数一定是两位数。 ()
2. 44 的十位上的 4 和个位上的 4 表示的意义相同。 ()
3. 六十八写作：608 ()
4. 写数和读数都从高位起。 ()
5. 47 和 57 十位上的数字都是 7。 ()

四、选一选。(把正确答案的序号填在括号里)(每题 2 分，共 10 分)

1. 66 中的两个“6”分别表示()。
① 6 个十和 6 个一 ② 6 个十和 6 个百 ③ 表示的意义相同
2. 在下面的数中个位是 8 的数是()。
① 85 ② 58 ③ 80
3. 和 70 最接近的数是()。
① 75 ② 66 ③ 71
4. 比 45 少得多的数是()。
① 11 ② 96 ③ 43
5. 个位和十位都相同的数是()。
① 23 ② 99 ③ 90

五、计算挑战。(共 20 分)

1. 看谁算得又对又快。(每题 1 分, 共 9 分)

$74 - 4 =$

$5 + 40 =$

$98 - 8 =$

$30 + 8 =$


$83 - 3 =$

$49 - 40 =$

$56 - 50 =$

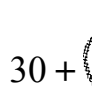
$60 + 7 =$

$4 + 30 =$

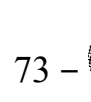
2. 在  里填上合适的数。(每题 1 分, 共 6 分)



$+ 5 = 75$



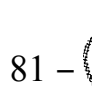
$30 + = 37$



$73 - = 70$



$- 40 = 3$



$81 - = 1$



$+ 20 = 24$

3. 排一排。(每空 1 分, 共 5 分)

$50 + 9$

$68 - 8$

$2 + 70$

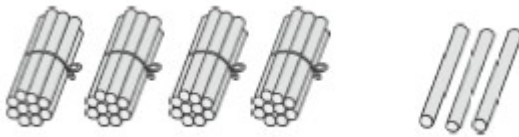
$44 - 40$

$8 + 30$

$(\quad) > (\quad) > (\quad) > (\quad) > (\quad)$

六、我会看图列式计算。(每题 4 分, 共 8 分)

1.



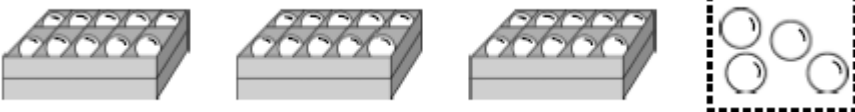
$\square + \square = \square$

$\square + \square = \square$

$\square - \square = \square$

$\square - \square = \square$

2.



$\square - \square = \square$

七、走进生活，解决问题。(每题5分，共30分)

1. 李阿姨抢了多少元微信红包？画“√”。陈叔叔抢了多少元微信红包？画“△”。



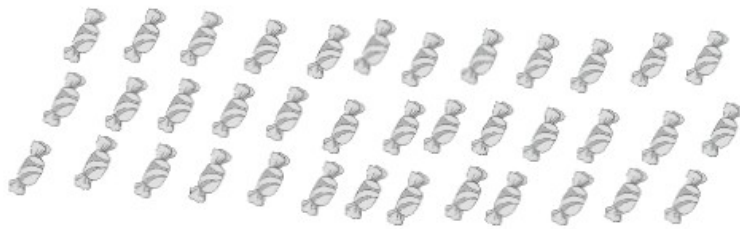
5元	17元	21元	50元

2. 小熊哥哥摘了多少根玉米？



$$\square \bigcirc \square = \square (\quad)$$

3. 先圈一圈，再回答问题。38块糖，每10块装一盒，能装满几盒？



4. 李阿姨要洗多少个盘子？

我洗了40个盘子，
还剩3个。



$$\square \bigcirc \square = \square \quad (\quad)$$

5.



我摘了60颗红
枣，8颗青枣。



我摘了60颗枣。

小刚



(1) 小红一共摘了多少颗枣？

$$\square \bigcirc \square = \square \quad (\quad)$$

(2) 小红比小刚多摘了几颗枣？

$$\square \bigcirc \square = \square \quad (\quad)$$

6.

我们班有34人，如果每人
一个座位，还差4个座位。

这辆大巴车有多少
个座位？



$$\square \bigcirc \square = \square \quad (\quad)$$

答案

一、80 33 二十四 一百

二、1. 68 10 2. 69 71 3. 39 4. 48 79 5. 82 83 84

6. 3 6 7. 49 50 53 8. 4

9.

22		24
	33	
42		44

16
27
38
49

三、1. $\sqrt{\quad}$ 2. \times 3. \times 4. $\sqrt{\quad}$ 5. \times

四、1. ① 2. ② 3. ③ 4. ① 5. ②

五、1. 70 45 90 38 80 9 6 67 34

2. 70 7 3 43 80 4

3. $2+70$ $68-8$ $50+9$ $8+30$ $44-40$


六、1. $40+3=43$ $3+40=43$ $43-3=40$ $43-40=3$

2. $34-4=30$

七、1.

5元	17元	21元	50元
	Δ		\checkmark

2. $40+8=48$ (根)

3. 

口答：能装满3盒。

4. $40+3=43$ (个) 5. (1) $60+8=68$ (颗) (2) $68-60=8$ (颗)

6. $34-4=30$ (个)