


第1单元过关检测卷

一、认真读题，专心填写。(每空1分，共18分)

1. 地图通常是按照“()北，()南，()西，()东”来绘制的。
2. 面向东，背对()，左边是()，右边是()。
3. 明明傍晚放学面向夕阳回家，他的前面是()面，后面是()面，左面是()面，右面是()面。
4. 与东南相对的方向是()；与西南相对的方向是()。
- 5.



在的()方向。

在的()方向。

在的()方向。

6. 乐乐中午放学回家，先向北走到科技街，再向东北走到家，下午上学时，乐乐应先向()走到科技街，再向()走到学校。

二、巧思妙断，判断对错。(每题1分，共5分)

1. 人的影子在西方，太阳在东方。()
2. 小军看到旗杆上的红旗向东北方向飘扬，判断今天刮的是东北风。()
3. 只要知道东、南、西、北其中任意一个方向，就可以知道其他方向。()
4. 冬天来了，燕子从南方飞向北方。()
5. 指南针是我国的四大发明之一，它总是一头指向北方，另一头指向

南方。

()

三、反复比较，择优录取。(每题2分，共10分)

1. 学校在你家的南面，你家在学校的()面。

A. 东 B. 南 C. 西 D. 北

2. 在我国，树木年轮较宽的一面是()面。

A. 东 B. 南 C. 西 D. 北

3. 晚上我面对北斗星站着，我的左手边是()面。

A. 东 B. 南 C. 西 D. 北

4. 贝贝面向东站着，他向后转，又向右转，这时，他面向()。

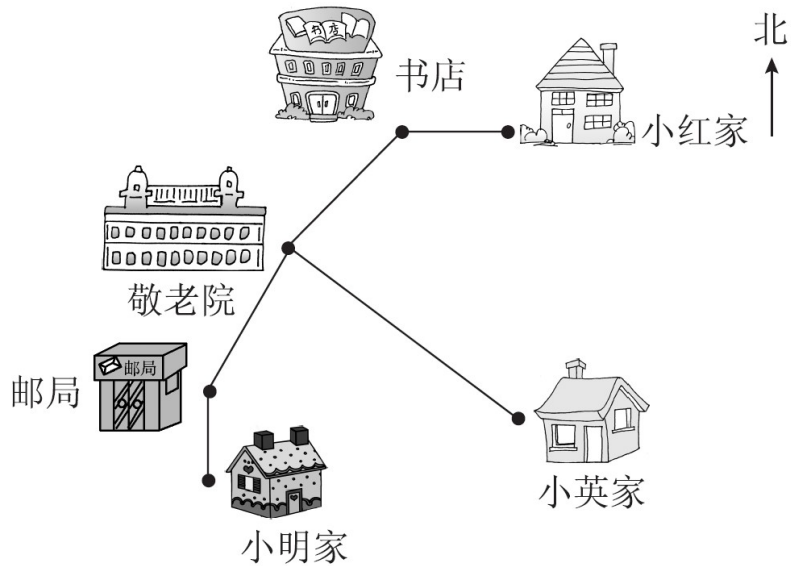
A. 东 B. 南 C. 西 D. 北

5. 小英的座位在小华的南面，小宋的座位在小英的东面，那么小华的座位在小宋的()。

A. 东南面 B. 西南面 C. 东北面 D. 西北面

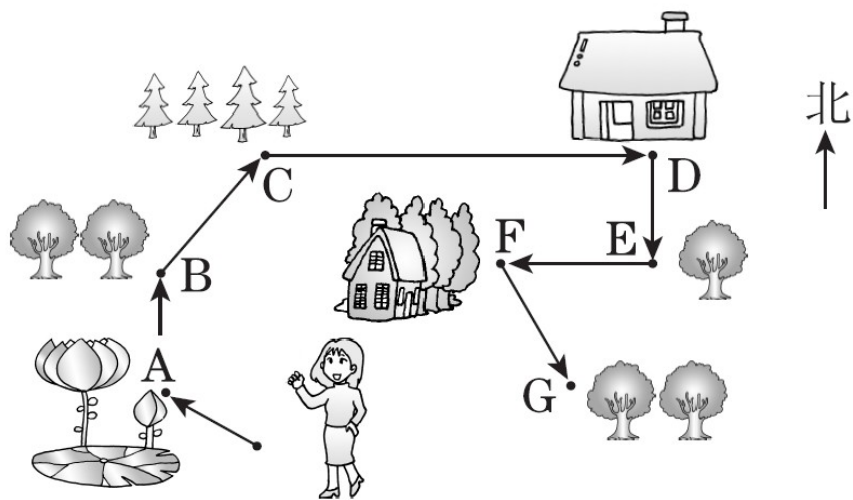
四、注意审题，辨别方向。(1题8分，2题6分，共14分)

1. 周六，小明、小红、小英相约早上8:00到敬老院门口集合，然后去看望老人。



- (1)小英从家出发向()方向走到敬老院。
- (2)小红从家出发先向()走到书店,再向()方向走到敬老院。
- (3)小明从家出发先向()走到邮局,再向()方向走到敬老院。
- (4)你能写出小红从敬老院回家的路线吗?

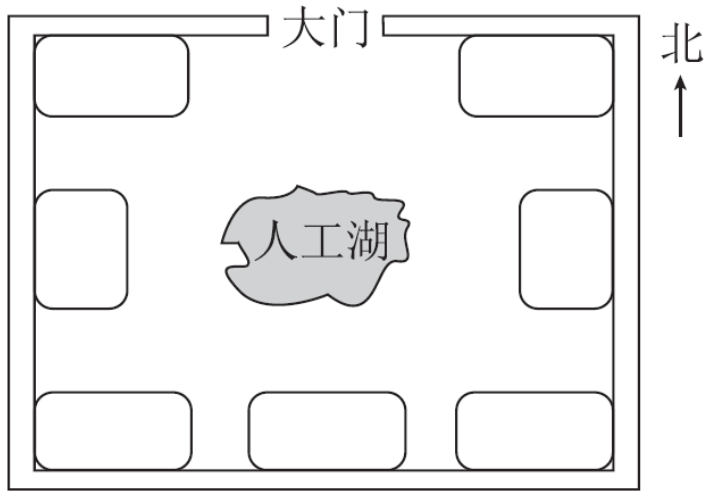
2. 如图所示是王老师制定的户外运动路线图,你能填出王老师所走的方向吗?



王老师先向西北行，走到 A 地；再向()行，走到 B 地；再向()行，走到 C 地；再向()行，走到 D 地；再向()行，走到 E 地；再向()行，走到 F 地；再向()行，走到 G 地。

五、动手实践，操作应用。(14分)

美丽的生态园。

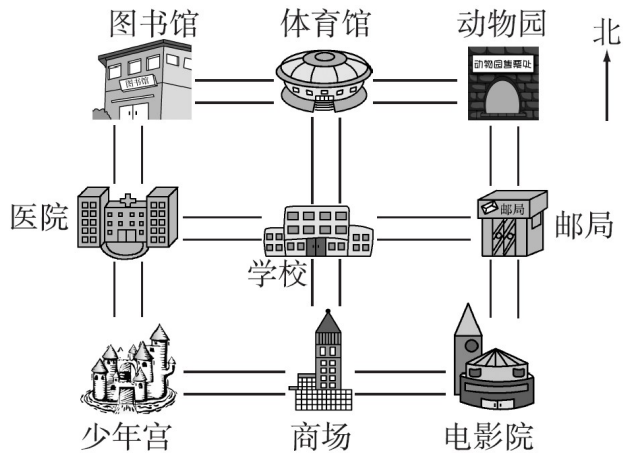


乐乐说：“走进生态园的大门，正南面是人工湖和假山。人工湖的东面是采摘园，四季植物馆在人工湖的西面，在花卉展销中心的南面，生态园的东北角、东南角和西南角分别是生态水上乐园、竹林和草坪。”请你根据乐乐的描述，把生态园内的这些景区的序号填在适当的位置上。

- ① 采摘园 ② 四季植物馆 ③ 花卉展销中心 ④ 竹林 ⑤ 草坪
⑥ 假山 ⑦ 生态水上乐园

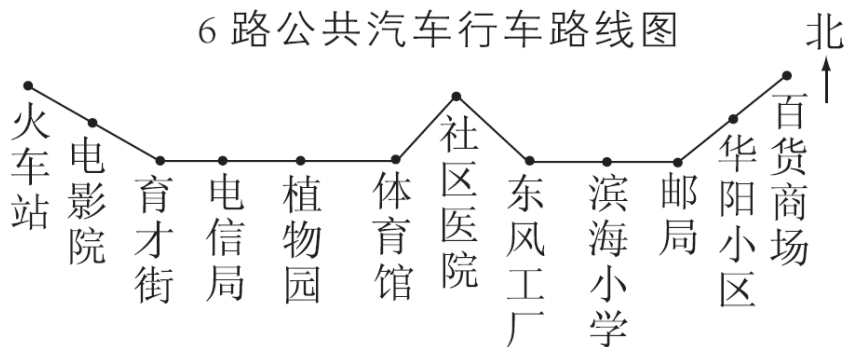
六、走进生活，解决问题。(1题18分，2题11分，3题10分，共39分)

1.



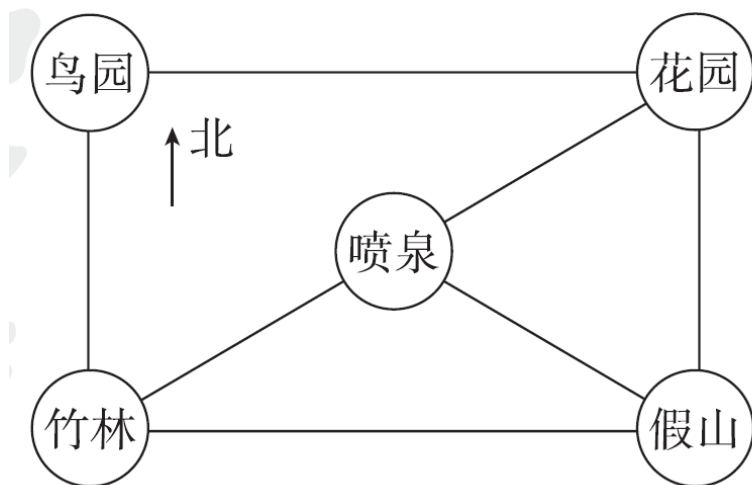
- (1) 邮局在学校的()面，在动物园的()面，在电影院的()面。
- (2) 少年宫在学校的()面，电影院在学校的()面，动物园在学校的()面，图书馆在学校的()面。
- (3) 医院在邮局的()面，体育馆在商场的()面，少年宫在动物园的()面。
- (4) 明明从学校放学后要去少年宫，他可以怎样走？
- (5) 玲玲从学校放学后要先去图书馆借书，再到邮局寄包裹，最后去商场买衣服，她可以怎样走？

6路公共汽车行车路线图



- (1) 6路公共汽车一共设有()个车站。
- (2) 在滨海小学读书的小明住在育才街站附近，他每天上学要乘坐6路公共汽车。你能写出他坐车行走的路线吗？
- (3) 小明的同学李华住在华阳小区，你能写出李华从华阳小区出发乘坐6路公共汽车到体育馆的行车路线吗？

3.



- (1) 鸟园、喷泉、假山、花园分别在竹林的什么方向？

(2)从竹林到花园有几条路，哪条路最近？

答案

- 一、1.上 下 左 右 2.西 北 南
3.西 东 南 北 4.西北 东北
5.西南 东北 东南 6.西南 南

二、1.√ 2.× 3.√ 4.× 5.√

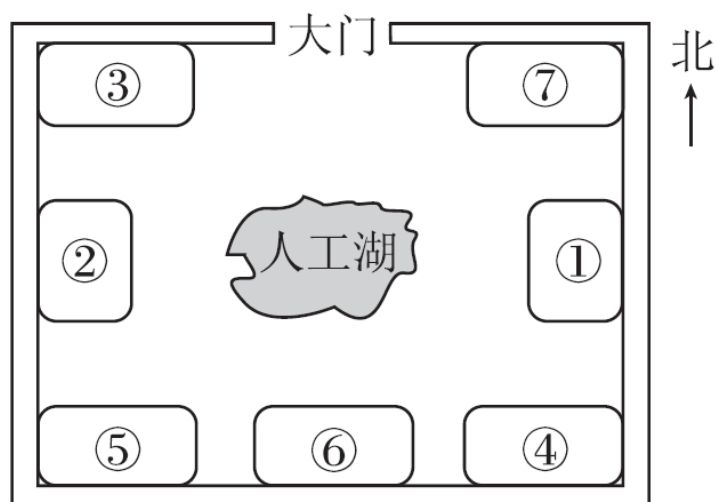
三、1.D 2.B 3.C 4.D 5.D

四、1.(1)西北 (2)西 西南 (3)北 东北

(4)敬老院——→书店——→小红家

2.北 东北 东 南 西 东南

五、



六、1.(1)东 南 北 (2)西南 东南 东北 西北

(3)西 北 西南

(4)学校——→医院——→少年宫(答案不唯一)

(5)学校——→医院——→图书馆——→体育馆——→动物园

——→邮局——→电影院——→商场(答案不唯一)

2.(1)12

(2)育才街——→电信局——→植物园——→体育馆——→社区
医院——→东风工厂——→滨海小学

(3)华阳小区——→邮局——→滨海小学——→东风工厂——→
社区医院——→体育馆

3.(1)鸟园在竹林的北面，喷泉在竹林的东北面，假山在竹林的东
面，花园在竹林的东北面。

(2)5 条。从竹林到喷泉，再到花园这条路最近。