

2.21 十几减 8

一、圈一圈，算一算。




$$13 - 8 =$$



$$16 - 8 =$$

二、连一连。



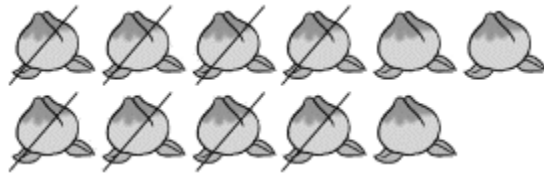
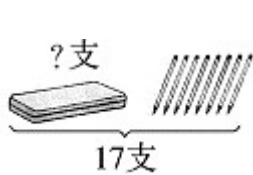
三、哪个苹果熟了？把它涂一涂。

$$11 - 8 = (\textcircled{3}) (\textcircled{4})$$

$$16 - 9 = (\textcircled{7}) (\textcircled{8})$$

$$12 - 8 - 3 = (\textcircled{4}) (\textcircled{1})$$

四、看图写算式。



$$17 \bigcirc \square = \square \text{ (支)}$$

$$\square \bigcirc \square = \square \text{ (个)}$$

五、我会算。

$14 - 8 =$ $12 - 9 =$ $11 - 9 =$ $12 - 8 =$

$15 - 9 =$ $10 - 8 =$ $13 - 8 =$ $17 - 8 =$

六、解决问题。6 3 2 4 6 2 5 9

1. 每人做 13 道题，小明已经做了 8 道题，还有几道没做？

2. 树上原来有()个苹果，小兔子要摘走()个，树上还剩多少个苹果？



$\square \bigcirc \square = \square$

3. 15 个小朋友站成一排，华华的前面有 8 人，你知道华华的后面有几人吗？

答案：

一、58

二、略

三、略

四、 $-8=9$ (支) $11-8=3$ (个)

五、63246259

六、1.13-8=8 (道)

2.17817-8=9 (个)

3.15-8-1=6 (人)