
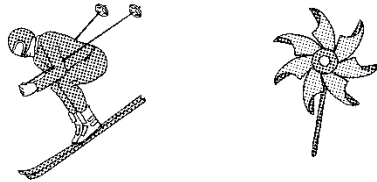


第三单元过关检测卷


一、下面哪些是轴对称图形？是的在下面画“√”，不是的画“×”。(9分)




二、下列现象是平移的画“○”，是旋转的画“□”。(12分)



滑雪() 小风车()



滑滑梯() 拧螺丝()

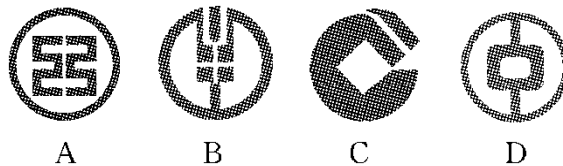


三、判断。(对的画“√”，错的画“×”)(每题 2 分，共 10 分)

1. 熟透的苹果从树上掉下来是平移。 ()
2. 一张纸对折后剪出的图形一定是轴对称图形。 ()
3. 字母 N 是轴对称图形。 ()
4. 小朋友玩荡秋千是旋转现象。 ()
5. 旋转之后图形的形状发生了改变。 ()


四、选一选。(每题 2 分，共 10 分)

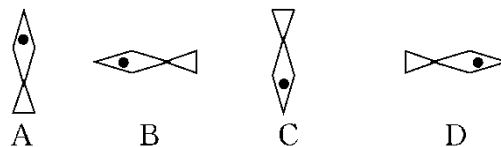
1. 下列四个银行的商标图案中，不是轴对称图形的是()。




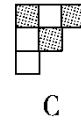
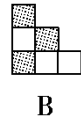
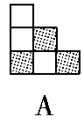
2. 下列图形在镜子中没有变化的是()。

- A. □ B. a C. ○ D. 日

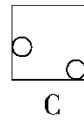
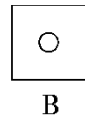
3. 图形  可以由下面的图形()平移得到。




4. 图形  可以由下面的图形() 旋转得到。



5. 下面的图形沿着一条直线折叠后不能完全重合的是()。



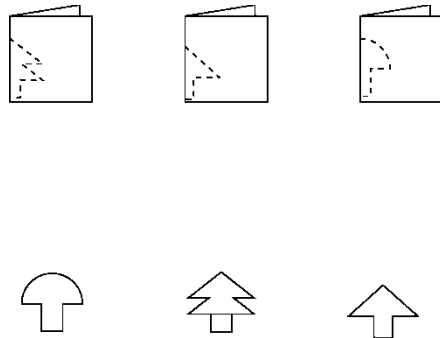
五、把通过平移能得到的图形连起来。(8分)



六、下面哪幅图是由图①旋转得到的? 圈出来。(4分)



七、下面的图形分别是哪张纸上剪下来的?(连一连)(6分)

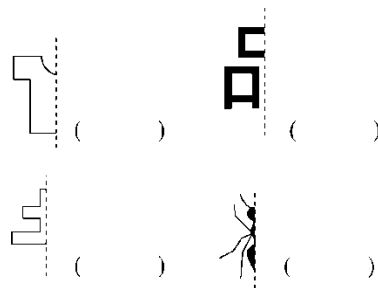


八、写出分针从 12 旋转到下面各个位置所经过的时间。(6 分)

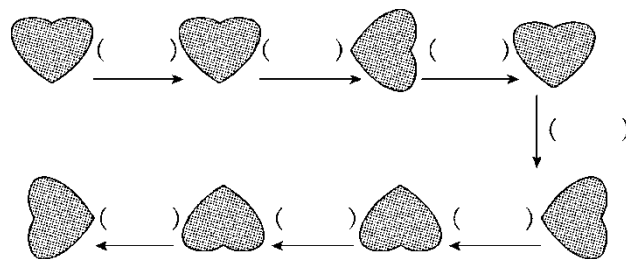


九、下面的图形和汉字都是轴对称图形，你能猜出它们分别是什么

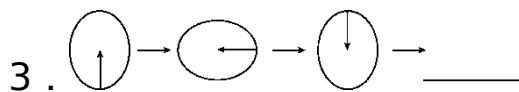
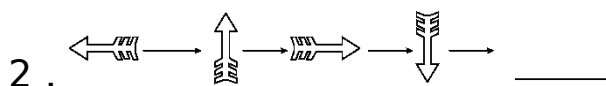
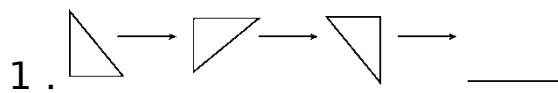
吗？在()里写出来。(12 分)

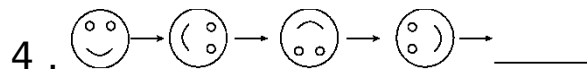


十、观察下图，在()里填上“平移”或“旋转”。(7 分)



十一、按照图中的规律画一画。(每题 2 分，共 8 分)






十二、按要求填一填。(1题2分,2题6分,共8分)

1. 通过平移相互重合的图形有()。

2. 通过旋转相互重合的图形()。



答案

一、× × √ × √ × √ √ ×

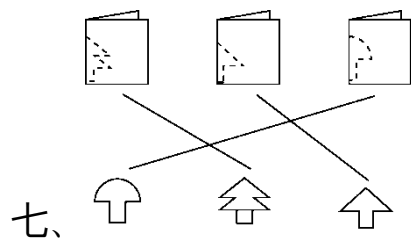

二、滑雪(○) 小风车(□) 滑滑梯(○)

拧螺丝(□) 舞厅旋转灯(□)

光盘架从电脑中弹出(○)

三、1.√ 2.√ 3.× 4.√ 5.×





四、1.C 2.C 3.D 4.A 5.C



八、30 20 50

九、衣服 品 土 蚂蚁

十、平移 旋转 旋转 旋转 旋转 平移 旋转

十一、1.  2.  3.  4. 

十二、1. ④和⑦

2. ①和⑤, ②和⑨, ③和⑧