

## 第九单元检测

### 一、填空题。

1. 用 5、7、9 三张数字卡片,能摆成( )个不同的两位数,它们分别是( )。
2. 用 3、0、6 这三张数字卡片,能摆成( )个不同的三位数,分别是( )。
3. 猜年龄。



年龄最小的是( ),年龄最大的是( )。

4. 小红住在小丽楼上,小丽住在小敏楼上。住在最上面的是( ),住在最下面的是( )。

### 二、连一连。

$57 \div 8$

$64 \div 7$

$37 \div 5$

$23 \div 7$

$55 \div 6$



### 三、用竖式计算。

$45 \div 6 =$

$28 \div 4 =$

$56 \div 9 =$

$34 \div 6 =$


$72 \div 8 =$


$18 \div 3 =$


$60 \div 8 =$


$53 \div 7 =$


### 四、卡片上最大能填几?


  $\times 5 < 46$

  $\times 8 < 50$

  $\times 4 < 30$

  $\times 4 < 32$

  $\times 7 < 25$

  $\times 6 < 40$

### 五、填数字。

1.把 2、3、6、7、8、9、11 和 15 这八个数填在下面的方框里,使它们正好组成四个算式。

	-		=	
-				+
=				=
	+		=	

2.在方框里填上 1~9 使算式成立,每个算式中的数字不能重复。

$$\begin{array}{r} 27 \\ +5\Box \\ \hline 81 \end{array}$$

$$\begin{array}{r} 4\Box \\ +\Box\Box \\ \hline 62 \end{array}$$

$$\begin{array}{r} \Box\Box \\ -\Box8 \\ \hline 54 \end{array}$$

$$\begin{array}{r} \Box4 \\ -1\Box \\ \hline 46 \end{array}$$

## 六、解决问题。

1.李叔叔把红、白、蓝各一个气球送给 3 位小朋友。根据下面的对话,你能猜出他们分到的各是什么颜色的气球吗?



我分到的不是蓝气球。



我分到的不是白气球。



我看见张老师把蓝气球和红气球分给小春和小宇了。

2.青青、云云、丫丫和美美一起排队上车。

青青在云云和丫丫之间。

美美在最后一个。

云云不是第一个。

请把她们的名字按从前往后的顺序写下来。

3.大灰、二灰和三灰三只松鼠进行跳远比赛。大灰说:“我跳的不是最远的,但比二灰跳得远”。请你说一说,谁跳得最远,谁跳得最近。

4.在下面的方格中,每行、每列都有 1~4 这四个数,并且每个数在每行、每列都只出现一次。  
B、C 各是几?

		1	
	3	A	1
	C	4	2
		B	

## 参考答案

一、1.6 57、75、79、97、59、95

2.4 306、360、603、630

3.小冰 小华 4.小红 小敏

二、余数分别是 1、1、2、2、1。 连线略

三、7.....3 7 6.....2 5.....4 9 6 7.....4

7.....4

四、9 6 7 7 3 6

五、1.15-7=8 8+3=11 9+2=11 15-6=9(或 11-2=9 9+6=15 8+7=15 11-3=8)

2.  $\begin{array}{r} 27 \\ +54 \\ \hline 81 \end{array}$   $\begin{array}{r} 47 \\ +15 \\ \hline 62 \end{array}$  或  $\begin{array}{r} 45 \\ +17 \\ \hline 62 \end{array}$   $\begin{array}{r} 92 \\ -38 \\ \hline 54 \end{array}$   $\begin{array}{r} 64 \\ -18 \\ \hline 46 \end{array}$

六、1.小春:红气球 小宇:蓝气球 小华:白气球

2.丫丫、青青、云云、美美

3.三灰跳得最远,二灰跳得最近。

4.B 是 3,C 是 1。