

期末检测卷

一、填一填。(每空1分,共28分)

1. 100张  是()元。

2. 写出两道商是7的除法算式是()和()。

3. 54支铅笔,平均分给6个小朋友,每个小朋友分()支。

4. 一个四位数,千位和十位都是8,其余数位是0,这个数写作:(
) ,读作:()。

5. 在()里填上合适的质量单位。

一块橡皮约重6() 一袋面粉重25()

一只鸭重2999()约3() 一袋奶粉重900()

一袋盐重250() 一个苹果重180()

6. 按规律填数。

(1) 5680、5690、()、()。

(2) 14、21、()、35、()。

(3) 6600、6400、()、()。

7. 在○里填上“>”“<”或“=”。

25 千克 ○ 2500 克

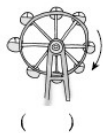
3900 克 ○ 4 千克 5000 克 ○ 5 千克

1800 - 700 ○ 1200

48 ÷ 8 ○ 36 ÷ 6

6901 ○ 9601

8. 下列现象是平移的在()里画“○”，是旋转的画“△”。



二、我是小法官。(对的画“√”，错的画“×”)(每题 1 分，共 5 分)

1. 一个四位数的最高位是千位。 ()

2. 被除数 = 商 × 除数 + 余数。 ()

3. 一个梨子重 250 克，4 个梨子重 1 千克。 ()

4. 读 5006 时，只读一个 0。 ()

5. 升国旗的运动是旋转现象。 ()

三、我会选。(每题 1 分，共 5 分)

1. 下面各数只读一个“0”的是()。

A. 7800 B. 6000 C. 7080

2. 用一堆小棒摆正方形，有剩余，可能余()根。

A. 1 B. 2 根 C. 1 根、2 根或 3 根

3. 下面字母中有()个是轴对称图形。

HAPPY

A . 2 B . 3 C . 4

4 . 989 最接近()。

A . 1000 B . 900 C . 800

5 . 有语文、数学、品德三种书，小明、小丽、小红各拿一本。小明

说：“我拿的是语文书”。小丽说：“我拿的不是数学书”。小红拿的是()书。

A . 数学 B . 语文 C . 品德

四、我会算。(28分)

1 . 直接写出得数。(每题 0.5 分，共 8 分)

$8 \times 6 =$ $40 \div 8 =$ $98 - 59 =$ $63 \div 9 =$

$56 \div 7 =$ $30 \div 5 =$ $38 + 25 =$ $8 \times 7 =$

$800 + 800 =$ $7000 + 600 =$ $160 + 40 =$ $4000 - 900 =$

$4300 - 3000 =$ $650 + 80 =$ $300 + 900 =$ $2800 - 600 =$

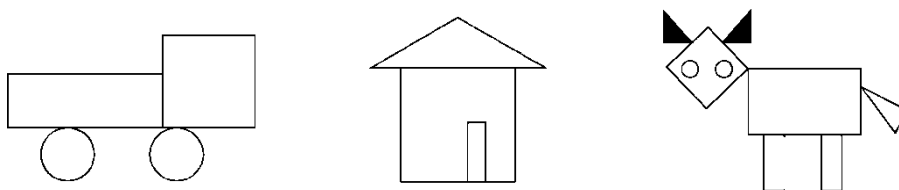
2 . 列竖式计算。(每题 2 分，共 8 分)

$73 \div 9 =$ $64 \div 8 =$ $55 \div 6 =$ $76 \div 8 =$

3. 计算下列各题。(每题3分,共12分)

$58 + 7 \times 5$	$100 - 24 \div 3$	$(26 + 28) \div 6$	$8 \times (27 \div 3)$
=	=	=	=
=	=	=	=

五、数一数,填一填,答一答。(1题4分,2题5分,共9分)



1. 上图中各种图形各有几个?请用画“正”字的方法记录。

长方形	
正方形	
三角形	
圆	

2. 回答问题。

(1) ()的个数最多,有()个。

(2) ()的个数最少，有()个。


(3) 最多和最少的图形数量相差()个。

六、解决问题。(每题 5 分，共 25 分)

1. 哪种袜子便宜？



2. 南京路小学准备了 2200 支流感疫苗给二、三、四年级的学生够吗？



3. 有 60 千克苹果，如果每筐装 8 千克，至少需要装多少筐？



4. 下面是一些商品的价格。(10分)



8元/500克



7元/500克



6元/500克



9元/500克

(1) 买1千克饼干和500克巧克力一共多少钱?

(2) 买2千克蛋糕和500克糖一共多少钱?

5. 灯笼按下面的方式排列。第 34 个灯笼是什么颜色的？



答案

一、1. 10000

2. $14 \div 2 = 7$ $28 \div 4 = 7$ (答案不唯一)

3. 9 4. 8080 八千零八十

5. 克 千克 克 千克 克 克 克

6. (1) 5700 5710 (2) 28 42 (3) 6200 6000

7. $>$ $<$ $=$ $<$ $=$ $<$

8. $(\triangle)(\circ)(\triangle)$

二、1. \checkmark 2. \checkmark 3. \checkmark 4. \checkmark 5. \times

三、1. C 2. C 3. B 4. A 5. A

四、1. 48 5 39 7 8 6 63 56 1600 7600 200 3100

1300 730 1200 2200

2. $73 \div 9 = 8 \cdots 1$

$$\begin{array}{r} 8 \\ 9 \overline{)73} \\ \underline{72} \\ 1 \end{array}$$

$64 \div 8 = 8$

$$\begin{array}{r} 8 \\ 8 \overline{)64} \\ \underline{64} \\ 0 \end{array}$$

$$55 \div 6 = 9 \cdots 1$$

$$\begin{array}{r} 9 \\ 6 \overline{)55} \\ \underline{54} \\ 1 \end{array}$$

$$76 \div 8 = 9 \cdots 4$$

$$\begin{array}{r} 9 \\ 8 \overline{)76} \\ \underline{72} \\ 4 \end{array}$$

3. $58 + 7 \times 5$

$$= 58 + 35$$

$$= 93$$

$$(26 + 28) \div 6$$

$$= 54 \div 6$$

$$= 9$$

$$100 - 24 \div 3$$

$$= 100 - 8$$

$$= 92$$

$$8 \times (27 \div 3)$$

$$= 8 \times 9$$

$$= 72$$

五、1. 正 下 正 正

2. (1) 长方形 5 (2) 正方形 3 (3) 2

六、1. $25 \div 5 = 5$ (元)

$$36 \div 9 = 4$$
(元) $5 > 4$

9双装便宜

2. 六百多 < 七百 $700 + 700 + 700 = 2100$ 2200 支够

3. $60 \div 8 = 7$ (筐).....4(千克) $7 + 1 = 8$ (筐)

4. (1) 1 千克里面有 2 个 500 克

$$2 \times 8 + 9 = 25$$
(元)

(2) 2 千克里面有 4 个 500 克

$$4 \times 7 + 6 = 34$$
(元)

5 . $34 \div 5 = 6(\text{组}) \dots\dots 4(\text{个})$

第 34 个灯笼是红色的