

# 人教小学数学 1 下 期末检测易错题及答案

## 一、选择题 (满分 16 分)


- 两个完全一样的正方形可以拼成一个 ( ) 。  
A . 正方形 B . 长方形 C . 圆
- 我们教室的门是 ( ) 。  
A . 长方形 B . 正方形 C . 平行四边形
- 8 添上 ( ) 变为 13 。  
A . 2 个一 B . 3 个一 C . 5 个一 D . 1 个一
- 16 个蛋挞, 爸爸和小明 2 人吃了 8 个。还剩几个? 正确的列式是 ( ) 。  
A .  $16 - 8$  B .  $16 \div 8$  C .  $16 \div 2$
- 哪个与其他三个不同类? ( )

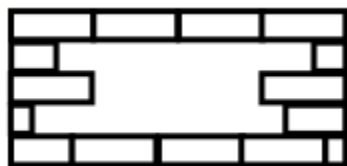


- 下列各数比 26 多的多的数是 ( ) 。  
A . 22 B . 99 C . 27
- 买 1 个医用口罩大约需要 4 ( ) 。  
A . 元 B . 角 C . 分
- 哪个式子算对了? ( ) 。





A . 
$$\begin{array}{r} 61 \\ - 4 \\ \hline 63 \end{array}$$
 B . 
$$\begin{array}{r} 48 \\ + 6 \\ \hline 54 \end{array}$$
 C . 
$$\begin{array}{r} 35 \\ + 4 \\ \hline 49 \end{array}$$

## 二、填空题 (满分 16 分)

- 缺了 ( ) 块  。



- 在得数大于 6 的苹果下画“○”。



( ) ( ) ( ) ( )

11. 小华有 12 张邮票，小雪有 6 张邮票。小华给小雪 ( ) 张邮票，她们俩的邮票就一样多了。

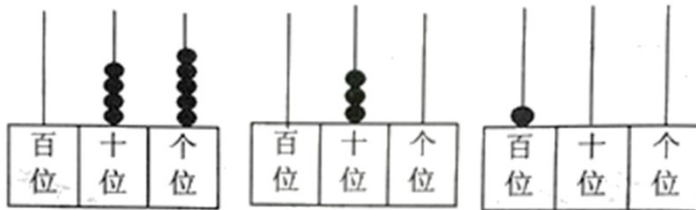
12. 下面是玩具的画“○”，是服装的画“□”，是文具的画“△”。



( ) ( ) ( ) ( ) ( ) ( )

13. 一个数的十位上是 9，个位上是 4，这个数是 ( )。

14. 看图写数。



( ) ( ) ( )

15. 认一认，填一填。



\_\_\_元\_\_\_角

\_\_\_元\_\_\_角

\_\_\_元\_\_\_角

16. 40 前面的一个数是 (\_\_\_\_), 79 和 81 中间的一个数是 (\_\_\_\_)。55 十位上的“5”比个位上的“5”多 (\_\_\_\_)。

三、判断题 (满分 8 分)

17. 硬币和皮球都是圆形的。 (\_\_\_\_)
18. 巨野县与儿童节应该是同一类。 (\_\_\_\_)
19. 23 和 25 十位上的数相同。 (\_\_\_\_)
20. 一个 1 元硬币可以换两个 5 角硬币。 (\_\_\_\_)

四、计算题 (满分 12 分)

21. (12 分)口算。

$$30 - 9 = \quad 53 + 30 = \quad 9 + 36 = \quad 85 - 9 =$$

$$50 + 50 = \quad 98 - 70 = \quad 67 - 6 = \quad 8 + 88 =$$

$$0 + 40 = \quad 15 + 7 = \quad 18 - 9 = \quad 50 - 5 =$$

$$3 \text{ 分} + 3 \text{ 角} = \quad 5 \text{ 元} + 6 \text{ 元} = \quad 3 \text{ 元} 5 \text{ 角} + 2 \text{ 元} =$$

五、解答题 (满分 48 分)

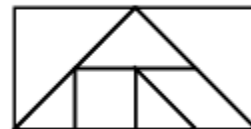
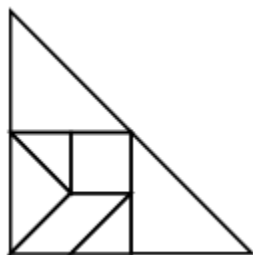
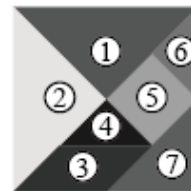
22. (8 分)原来有 15 只船,划走了 6 只船。还剩几只船?

口答: 还剩 ( ) 只船。

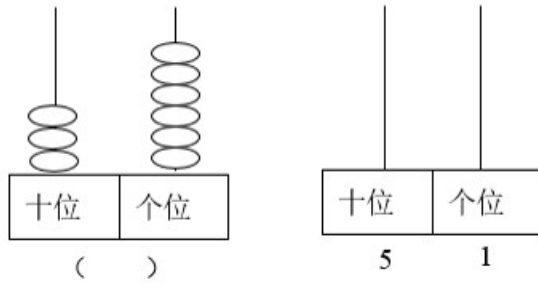
23. (8 分)玩转七巧板。



下面是我用七巧板拼出来的图形,你知道用了哪几块七巧板吗?你能把每块的序号在图中标出来吗?试试看!



24. (8 分)写一写,画一画。



25. (8分)  和  哪个贵？贵多少钱？



26. (8分) 图书室一共有 96 本图书，其中故事书有 20 本，上周借出 9 本书，图书室还剩多少本书？



口答：图书室还剩 ( ) 本书。

27. (8分) 妈妈买回 12 个苹果和 4 个梨，吃了 6 个苹果，还剩下多少个苹果？

人教版小学数学一年级下册期末检测易错题参考答案

1. B

2. A

3. C

4. A

5. C

6 . B

7 . A

8 . B

9 . 8

10 . (○) ( ) (○) ( )

11 . 3

12 . □ △ ○ △ □ ○

13 . 94

14 . 45 30 100

15 . 1 7 2 5 1 3

16 . 39 80 45

17 . ×

18 . ×

19 .  $\sqrt{\quad}$

20 .  $\sqrt{\quad}$

21 . 21 ; 83 ; 45 ; 76

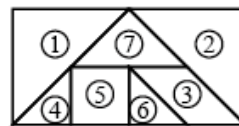
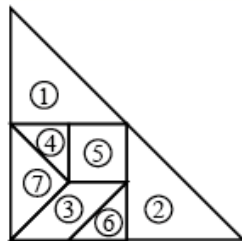
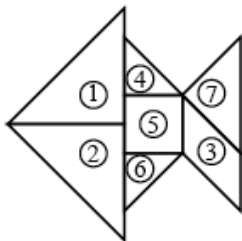
100 ; 28 ; 61 ; 96

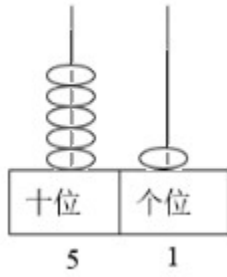
40 ; 22 ; 9 ; 45

3角3分 ; 11元 ; 5元5角

22 .  $15-6=9$  (只) ; 9

23 .





24 . 36 ;

25 . 剪刀贵 , 贵 1 元

3 元 5 角 > 2 元 5 角

3 元 5 角 - 2 元 5 角 = 1 元

口答 : 剪刀贵 , 贵 1 元。

26 .  $96 - 9 = 87$  (本) ; 87

27 .  $12 - 6 = 6$  (个)