

(教科版) 二年级科学下册期末检测卷

(40分钟 满分100分)

题号	一	二	三	四	五	六	七	总分	等级
得分									

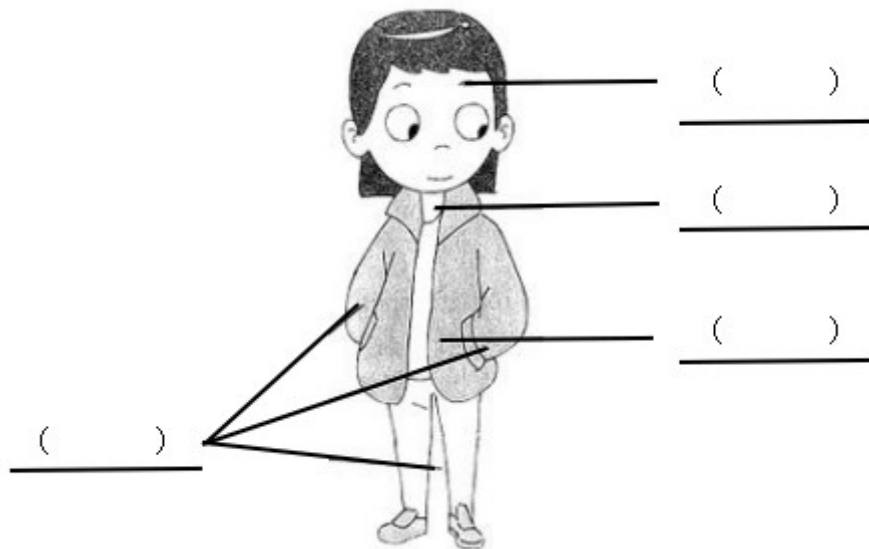
★请认真答题，要求书写规范、端正、整洁★

阅卷人	
得分	

一、填空题。(共20分)

1. 指南针由两部分构成，分别是_____和_____。
2. 请将人的身体结构填到相应的位置。

①头 ②颈 ③躯干 ④四肢



3. 磁
铁有
两个
磁极

用汉字表示分别是_____和_____，相应的字母表示分别是_____和_____。

阅卷人	
得分	

二、辩一辩，对的画“√”，错的画“×”。(共9分)

1. 条形磁铁两端的磁力最大。 ()

2. 使用多种器官观察事物，会使我们得到的信息比较复杂，不准确。

()

3. 钥匙落入桶中的声音和毛绒玩具落入桶中的声音是一样的，听不出区别。 ()

阅卷人	
得分	

三、选一选，将正确选项的序号填在括号里。(共8分)

1. 现象 () 不可以说明条形磁铁有两个磁极。

① 用回形针接触条形磁铁的不同部位，感受到两端的磁力大，中间的磁力小

② 将磁铁放在铁粉盒上，轻轻晃动盒子后，大部分铁粉聚集在磁铁两端

③ 条形磁铁可以磁化没有磁性的钢针

2. 下面的 () 不是为了方便视力障碍的人更好地生活。

① 盲文 ② 盲道 ③ 助听器

阅卷人	
得分	


四、进行下面画线部分的行为时，分别用到了哪种感觉？(共10分)

①味觉 ②触觉 ③听觉 ④视觉 ⑤嗅觉

放学回家后，一进门，我就闻到了饭菜的香味。（ ）我朝厨房里看了一眼，原来是妈妈正在厨房里做饭。（ ）回屋后，我开始写作业。不一会，就听到妈妈喊我：“吃饭了！”（ ）妈妈做的菜味道非常好。（ ）等吃晚饭，我自告奋勇，帮妈妈洗碗，水有点凉，（ ）不禁觉得妈妈平时真的很辛苦，我应该多帮助妈妈干家务活！

阅卷人	
得分	

五、下面两幅画中一共有 5 处不同，请你全部找出来。（共 10 分）



阅卷人	
得分	

六、下面是小明的身体发育记录表（共 22 分）

日期	体重	身高	头围
2012年11月	12 千克	88 厘米	48 厘米

21日			
2015年11月 21日	21千克	111厘米	51厘米
2018年11月 21日	25千克	125厘米	52厘米

1. 从表中可以看出小明的体重这几年一直在（ ），身高一直在（ ），头围一直在（ ）。（6分）
2. 小明是2010年11月21日出生的，请你根据上面的数据和实际生活经验预测一下，到2020年，他的体重是（ ）千克，身高是（ ）厘米，头围是（ ）厘米。
3. 除了这三个方面，还有哪些方面可以证明小明在不断生长？（7分）

阅卷人	
得分	

七、简答题。（21分）

1. 制作指南针时，除了可以将小磁针放在水面上，你还知道哪些磁针的放置方法？（7分）

2. 上二年级的学生和成人在身体和体重方面有哪些不同？（7分）

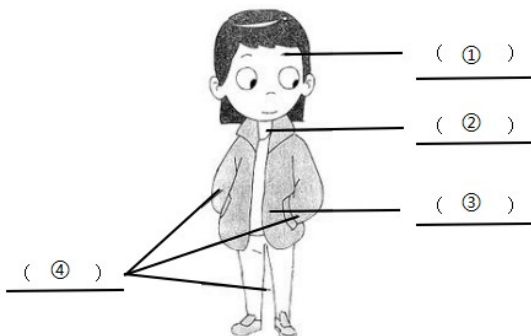
3. 平时你应该如何践行健康生活的理念？（7分）

参考答案：

一、

1. 磁针 刻度盘

2.



3. 南极 北极 S N

二、

1. √

2. ×

3. ×

三、


1. ③

2. ③

四、

⑤ ④ ③ ① ②

五、



六、

1. 增长 增长 增长

2. 预测合理即可。

3. 比如：脚长在增加，手掌在变大。

七、

1. 放在碗沿上，放在指甲上，悬挂。

2. 身高不同，体重不同。

3. 早睡早起，合理饮食。