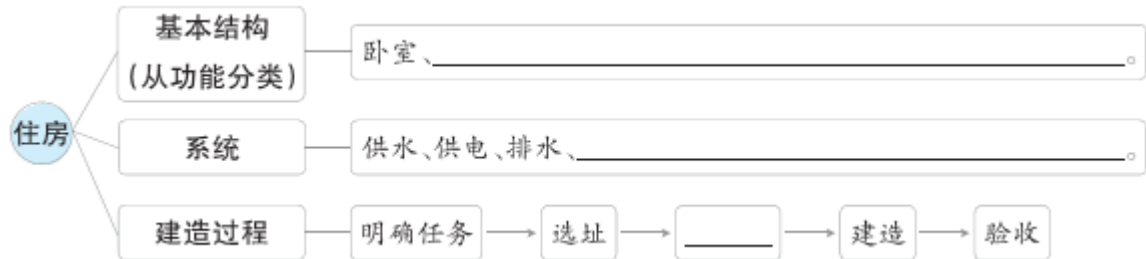


1 了解我们的住房

课堂回顾



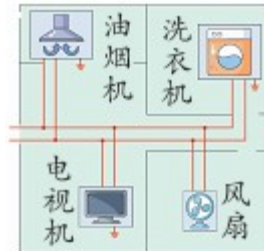
基础训练

1 选择题。

(1)从楼体结构分类，“鸟巢”属于()，

A.砖混结构 B.钢混框架结构 C.钢结构

(2)下图是住房系统中()系统的示意图。



A.供水 B.电路 C.通风

(3)下列对于系统的认识，不正确的是()。

A.系统是由多个不同部分形成的整体，各个部分相互作用相互影响

B.窗户既是通风系统的一部分，也是采光系统的一部分

C.网络系统与电路系统之间不存在相互关系

(4)下列说法不正确的是()。

A.“中国天眼”的建造过程很重要，但选址过程不重要

B.桥梁等工程建造完成后需要验收，验收合格才能交付使用

C.工程是将自然科学的原理应用到工农业生产部门中去而形成的各学科的总称

(5)下列选项中，()属于住房的结构。

A.电视 B.沙发 C.门

2 填空题

(1)从_____分类有卧室、客厅、厨房、卫生间、阳台等。

(2)从_____分类有低层、多层、小高层、高层、超高层等。

(3)从_____分类有砖木结构、砖混结构、钢混框架结构、钢结构等。

(4)住房都是有一定结构的，根据_____，结构也会_____。

(5)住房需要经历一定的建造过程，每一个过程都非常重要，需_____发挥作用。

3 画图题。

请先画出自己家的布局，然后选择一个系统画出来，并说一说你画出的系统和哪些系统有相互关系。

参考答案

[课堂回顾]

客厅、厨房、卫生间、阳台等供暖、采光、

通风、电路、煤气、网络、承重等 设计

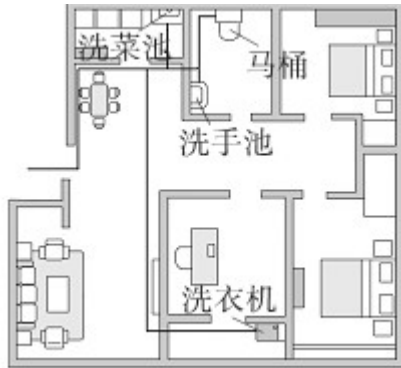
[基础训练]

1.(1)C (2)B (3)C (4)A (5)C

2

(1)功能(2)高度(3)楼体结构(4)需求不同 存在差异(5)协同

3



我画出的是供水系统。水用过以后污水需要及时排出，供水系统与排水系统存在相互关系。洗衣机不仅需要使用水，还需要使用电，所以供水系统与电路系统也存在相互关系。(合理即可)

