



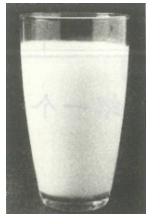
# 2017-2018 学年第二学期小学 一年级科学期末检测试卷

一、分一分。（每空3分，共18分）


1. 下列物体中，与  可以分为一类的是\_\_\_\_\_。这是按照它们的\_\_\_\_\_特征进行的分类。



①



②



③



④




⑤

2. 请将下列动物有共性的序号填入相应的类别。



①



②



③



④



⑤



⑥



⑦



⑧

会飞的：\_\_\_\_\_

会走的：\_\_\_\_\_

会爬的：\_\_\_\_\_

会游的：\_\_\_\_\_

## 二、判一判。（对的打√；错的打×）（每小题2分，共16分）

1. 观察物体时是对物体的颜色、形状、轻重和其他其他特征进行描述。（ ）

2. 水是透明的，毛衣颜色，没有气味。（ ）

3. 植物离不开水，动物能离开水生活。（ ）

4. 如果将乒乓球和小方块平铺在同一个盒子里面，乒乓球会铺满整个盒子，没有缝隙。（ ）

5. 蜗牛是软体动物，它的家是温暖潮湿、干净整洁的。（ ）

6. 做完实验后，我们要把实验材料整理好。 ( )
7. 蚯蚓可以使土壤疏松，利于植物的成长。 ( )
8. 动物需要经历生长、运动、进食、呼吸、繁殖等过程。 ( )

### 三、选一选。(共18分)

1. 我们学习观察比较了水、空气和木块，请根据比较的结果完成下面的表格。在相应的格子里打“√” (每空2分，共30分)

特征	形状		流动		轻重		是否透明		颜色	
	固定	不固定	会	不会	很轻	较重	是	不是	有	无
空气										
水										
木块										

### 四、看一看。记一记 (共22分)


1. 把盐、红糖和小石子放入水中，请先给下面的探索步骤排序。(8分)



① 搅拌



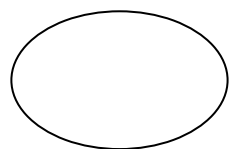
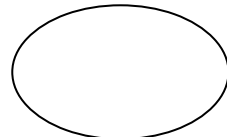
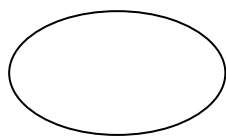
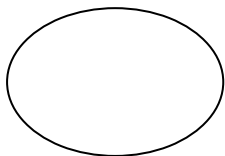
② 放入前，先观察



③ 放入后，静静观察



④ 搅拌后，再观察



2. 观察到了什么现象？颜色会发生什么变化？(12分)

我们的发现：食盐、红糖、木块放入水中，食盐和红糖在水中\_\_\_\_\_，并没有\_\_\_\_\_；木块在水中\_\_\_\_\_。(① 溶解②不会溶解③消失)；


我们放入食盐的水杯颜色是\_\_\_\_\_，放入红糖的水杯颜色是\_\_\_\_\_，放入石头的水杯颜色是\_\_\_\_\_。(① 没有变色②水变色)

### 五、写一写，画一画。

1. 利用我们学过的知识，用看、闻、摸、称向大家介绍一个你熟悉的物体的特征：（4分）例如：颜色

\_\_\_\_\_、\_\_\_\_\_、\_\_\_\_\_、\_\_\_\_\_、

2. 校园里的动物真多，请用简图画下来（12分）

1 	2	3
4	5	6

# 2017-2018 学年第二学期小学 一年级科学期末检测试卷答案

一、分一分。

1. 是否会流动(或者形状是否固定) ①③ ②④

2. ①③⑤ 形状

二、判一判。

1. √ 2. √ 3. √ 4. × 5. × 6. √ 7. √

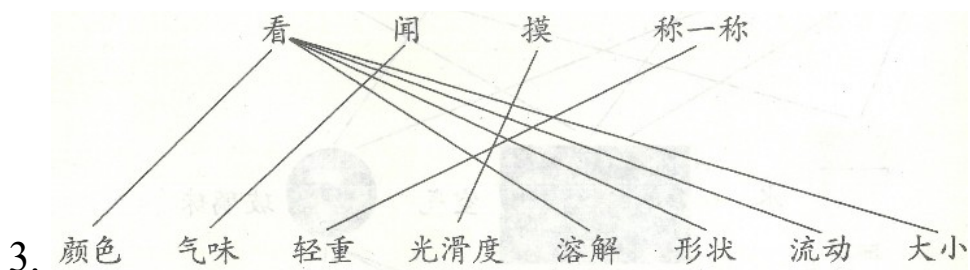
三、选一选。

1. ③ 2. ⑥④ 3. ① 4. ⑤ 5. ②

四、实验回顾。

1. ②——③——①——④

2. ① ③ ②



想一想，答一答。

1.

	形状		流动		轻重		看见	
	固定	不固定	会	不会	很轻	较重	能	不能
空气		√	√		√			√

水		√	√			√	√	
木块	√			√		√	√	

2. 略。