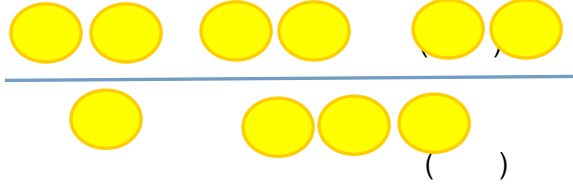


第一课时 平均分（一）

1. 下面哪种分法是平均分？在它下面画“√”。

(1)



(2)



()

()

2. 你能按要求圈一圈，填一填吗？

(1) □

共 () 个 □，每 () 个一份，分成了 () 份。

(2) ☆ ☆ ☆ ☆ ☆ ☆ ☆ ☆

() 颗 ☆，每 () 颗一份，分成了 () 份。

(3) ☆ ☆ ☆ ☆ ☆ ☆ ☆ ☆


() 颗 ☆，每 () 颗一份，分成了 () 份。


3. 分一分，填一填。




表示：把 () 平均分成 () 份，每一份是 () 。

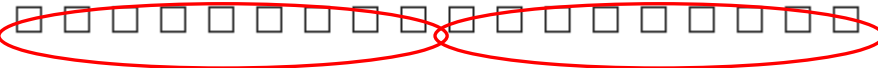
答案：

1. (1)  (√)

(2)  (√)

2. (1) 
(18)、(3)、(6)

或者


(18)、(2)、(9)

(2) 
(8) (2) (4)

(3) 
(8) (4) (2)

3. (8)、(2)、(4)