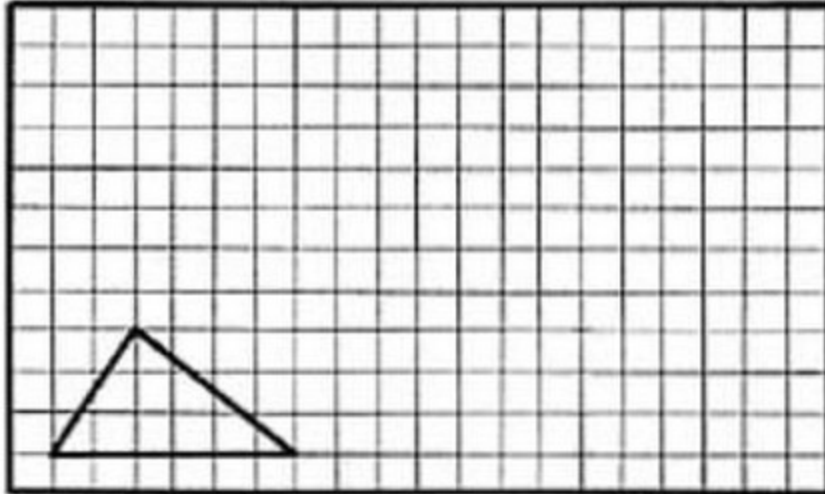


第四课时 剪一剪

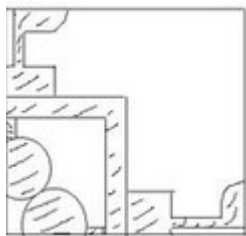
一、下列现象哪些是平移在括号里填①？哪些是旋转在括号里填②？

 酒店的门 ()	 自行车的车轮 ()
 公园里的木马 ()	 大楼里的电梯 ()

二、画出三角形先向右平移 10 格再向上平移 5 格后的图形。



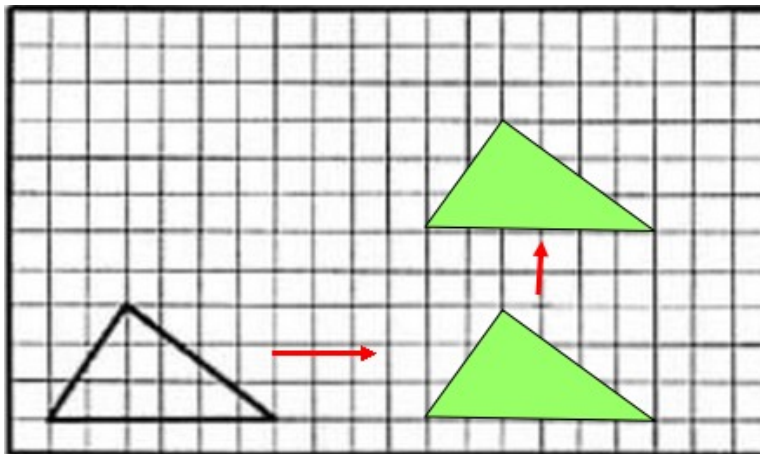
三、照样子，剪一剪。



答案：

一、旋转，旋转，旋转，平移

二、



三、要想剪出上面的图形，首先准备正方形纸，上下对折后，再左右对折，再按图画好，剪去空白，展开就是此图形。

